

**SSC
GD**

**Previous Year Paper
30 Nov 2021 Shift 3**



सत्यमेव जयते

Exam Date	30/11/2021
Exam Time :	4:00 PM - 5:30 PM
Subject	Constable GD 2021

Section : Part A General Intelligence and Reasoning

Q.1 अक्षरों के उस संयोजन का चयन कीजिए, जिसे दी गई श्रृंखला के रिक्त स्थानों में क्रमबद्ध रूप से रखने पर श्रृंखला पूर्ण हो जाएगी।

D Q _ R _ D _ M R _ D _ M _ T

- Ans
- 1. M Q T T Q R
 - 2. M T Q R Q T
 - 3. M T Q T R Q
 - 4. M T Q T Q R

Question ID : 65497835473
Status : Answered
Chosen Option : 4

Q.2 चार अक्षर समूह दिए गए हैं, जिनमें से तीन किसी तरह से समान हैं और एक असंगत है। उस असंगत अक्षर समूह का चयन कीजिए।

- Ans
- 1. N R V
 - 2. Q V B
 - 3. S X D
 - 4. Y D J

Question ID : 65497835451
Status : Answered
Chosen Option : 1

Q.3 उस विकल्प का चयन कीजिए, जिसका तीसरे पद से वही संबंध है, जो दूसरे पद का पहले पद से है।

BEGIN : EBGNI :: CADET : ?

- Ans
- 1. ACTDE
 - 2. TEDCA
 - 3. ADFTE
 - 4. ACDTE

Question ID : 65497835469
Status : Answered
Chosen Option : 4

Q.4 एक निश्चित कूट भाषा में, PLAN को OBMQ लिखा जाता है, और NOT को UPO लिखा जाता है। उसी कूट भाषा में MOTHER को किस प्रकार लिखा जाएगा?

- Ans
- 1. SFIUQM
 - 2. SFIUPN
 - 3. SFIVQN
 - 4. SGIURN

Question ID : 65497835470
Status : Answered
Chosen Option : 1

Q.5 If 'A' denotes 'addition', 'B' denotes 'multiplication', 'C' denotes 'subtraction', and 'D' denotes 'division', then what will be the value of the following expression?

82 A 126 B 16 D 112 C 73

- Ans
- 1. 52
 - 2. 27
 - 3. 72
 - 4. 25

Question ID : 65497835466
Status : Answered
Chosen Option : 2

Q.6 An amount of ₹870 is divided between Urmi and Kripa in the ratio of 18 : 11, respectively, whereas an amount of ₹960 is divided between Poorvi and Mrinal in the ratio of 5 : 7, respectively. Who gets the maximum amount of money among all four?

- Ans
- 1. Kripa
 - 2. Urmi
 - 3. Poorvi
 - 4. Mrinal

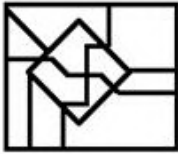
Question ID : 65497835458
Status : Answered
Chosen Option : 2

Q.7 उस विकल्प का चयन करें जिसमें दी गई आकृति सन्निहित है (आकृति को घुमाने की अनुमति नहीं है)।

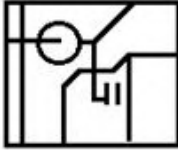


Ans

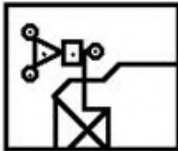
✗ 1.



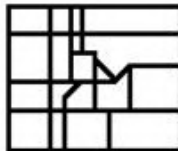
✗ 2.



✗ 3.



✓ 4.

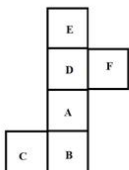


Question ID : 65497835468

Status : Answered

Chosen Option : 1

Q.8 दी गई शीट को मोड़कर एक घन बनाया जाता है। इस प्रकार से बने घन में, उस अक्षर का चयन करें, जो अक्षर 'D' दर्शाने वाले फलक के विपरीत वाले फलक पर होगा।



Ans

✗ 1. E

✓ 2. B

✗ 3. C

✗ 4. F

Question ID : 65497835467

Status : Answered

Chosen Option : 2

Q.9 उस सही विकल्प का चयन कीजिए, जो दिए गए शब्दों के उस क्रम को दर्शाता है, जिस क्रम में वे अंग्रेज़ी शब्दकोश में मौजूद होते हैं।

1. Carpet
2. Caring
3. Carrot
4. Creamy
5. Creek

- Ans
- 1. 2, 1, 3, 5, 4
 - 2. 1, 2, 3, 4, 5
 - 3. 2, 1, 3, 4, 5
 - 4. 2, 3, 1, 4, 5

Question ID : 65497835472

Status : Answered

Chosen Option : 3

Q.10 In a cafeteria, seven customers (B, G, H, K, L, M and N) sit on three different benches (X, Y and Z). Each bench must have at least two customers sitting on it. Customer G does not sit with customers K, L and M. Customer B sits only with customer N. Customer K sits on Bench X with his best friends. Customer H sits on Bench Z. On which bench are there three customers?

- Ans
- 1. Only Bench X
 - 2. Bench X or Bench Y
 - 3. Only Bench Z
 - 4. Only Bench Y

Question ID : 65497835462

Status : Not Attempted and Marked For Review

Chosen Option : --

Q.11 वर्गों के उस समुच्चय का चयन कीजिए जिनके मध्य के संबंध को दिए गए वेन आरेख द्वारा सर्वश्रेष्ठ रूप से निरूपित किया गया है।



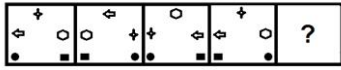
- Ans
- 1. दादा, माता, फार्मासिस्ट
 - 2. कार्डियोलॉजिस्ट, वकील, प्रोफेसर
 - 3. माताएं, महिलाएं, वकील
 - 4. पुत्रियां, भाई, इंजीनियर

Question ID : 65497835463

Status : Answered

Chosen Option : 3

Q.12 दिए गए विकल्पों में से उस आकृति का चयन कीजिए, जो निम्नलिखित श्रृंखला में प्रश्नवाचक चिन्ह (?) के स्थान पर आ सकती है।



Ans

- ✓ 1.
- ✗ 2.
- ✗ 3.
- ✗ 4.

Question ID : 65497835475

Status : Answered

Chosen Option : 1

Q.13 Read the given statements and conclusions carefully. Assuming that the information given in the statements is true, even if it appears to be at variance with commonly known facts, decide which of the given conclusions logically follow(s) from the statements.

Statements:

1. All gardens are resorts.
2. No resort is a court.
3. All parks are courts.

Conclusions:

- I. No court is a garden.
- II. No garden is a park.

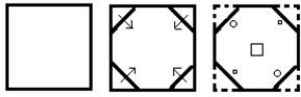
- Ans
- ✗ 1. None of the conclusions follow
- ✗ 2. Only conclusion I follows
- ✗ 3. Only conclusion II follows
- ✓ 4. Both the conclusions follow

Question ID : 65497835456

Status : Answered

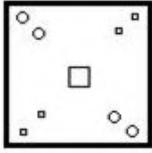
Chosen Option : 4

Q.14 The sequence of folding a piece of paper and the manner in which the folded paper has been cut is shown in the following figures. How would this paper look when unfolded?




Ans


✓ 1.



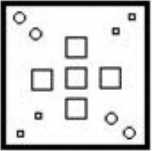
✗ 2.



✗ 3.



✗ 4.



Question ID : 65497835459

Status : Answered

Chosen Option : 1

Q.15 दिए गए विकल्पों में से उस संख्या का चयन कीजिए जो निम्नलिखित श्रृंखला में प्रश्न चिह्न (?) को प्रतिस्थापित कर सकती है।

27, 41, 57, 76, 99, ?

Ans ✗ 1. 152

✗ 2. 114

✗ 3. 136

✓ 4. 127

Question ID : 65497835453

Status : Answered

Chosen Option : 4

Q.16 उस विकल्प का चयन कीजिए जिसका तीसरी संख्या से वही संबंध है, जो दूसरी संख्या का पहली संख्या से है और छठी संख्या का पाँचवीं संख्या से है।

6 : 4 :: 11 : ? :: 16 : 8

Ans ✓ 1. 6

✗ 2. 5

✗ 3. 8

✗ 4. 7

Question ID : 65497835465

Status : Not Attempted and Marked For Review

Chosen Option : --

Q.17 एक निश्चित कूट भाषा में, 'NAUSEA' को '236943' और 'SYRUP' को '97165' के रूप में कूटबद्ध किया गया है। उसी भाषा में, 'SUPPRESS' को किस रूप में कूटबद्ध किया जाएगा?

- Ans
- 1. 96552599
 - 2. 86552489
 - 3. 96441499
 - 4. 96551499

Question ID : 65497835452
Status : Answered
Chosen Option : 4

Q.18 Six friends, Govardan, Sarayu, Rekha, Shyamala, Hema and Ganesh, are standing in a queue at a ticket counter. There are two persons between Sarayu and Hema. Rekha is between Hema and Shyamala. Only one person is standing ahead of Govardan. Ganesh who is third from the back end of the row, is between Govardan and Hema. Which two persons are standing between Sarayu and Hema?

- Ans
- 1. Shyamala and Rekha
 - 2. Govardan and Rekha
 - 3. Ganesh and Shyamala
 - 4. Govardan and Ganesh

Question ID : 65497835464
Status : Answered
Chosen Option : 3

Q.19 दिए गए विकल्पों में से उस संख्या का चयन कीजिए, जो निम्नलिखित श्रेणी में प्रश्नवाचक चिह्न (?) के स्थान पर आ सकती है।

23, 40, 74, 125, 193, ?

- Ans
- 1. 270
 - 2. 278
 - 3. 290
 - 4. 225

Question ID : 65497835474
Status : Answered
Chosen Option : 2

Q.20 एक निश्चित कूट भाषा में, 'POUR' को 'OPRU' और 'TACKLE' को 'ATKCEL' के रूप में लिखा जाता है। उसी भाषा में 'FORMATIONS' कैसे लिखा जाएगा?

- Ans
- 1. OFNRTAONSI
 - 2. OFMTRAOISO
 - 3. MFPRTAOKSN
 - 4. OFMRTAOISN

Question ID : 65497835455
Status : Answered
Chosen Option : 4

Q.21 उस विकल्प का चयन कीजिए जिसमें दी गई संख्याएँ आपस में उसी तरह से संबंधित हैं जिस प्रकार दिए गए समुच्चय की संख्याएँ आपस में संबंधित हैं।

(12, 14, 56)

- Ans 1. (16, 18, 96)
 2. (24, 16, 214)
 3. (10, 16, 82)
 4. (14, 20, 145)

Question ID : 65497835457
Status : Not Answered
Chosen Option : --

Q.22 दिए गए विकल्पों में से उस अक्षर-समूह का चयन कीजिए जो निम्न श्रृंखला में प्रश्नवाचक चिह्न (?) के स्थान पर आ सकता है।

BEI, EHL, HKO, KNR, ?

- Ans 1. NPS
 2. NRU
 3. NQU
 4. NQT

Question ID : 65497835460
Status : Answered
Chosen Option : 3

Q.23 रोशन, कृप का भाई है, जो प्रांजल का पुत्र है। वैष्णवी, आयुष की पत्नी हैं। प्रमिला, देविका की पुत्री है। देविका, आयुष की दादी है, जो रोशन का बेटा है। रोशन का प्रमिला से क्या संबंध है?

- Ans 1. ससुर
 2. पिता
 3. भाई
 4. भतीजा/भांजा

Question ID : 65497835471
Status : Answered
Chosen Option : 3

Q.24 Select the correct mirror image of the given combination when the mirror is placed at the right side.

d e t A 9 P

- Ans 1. q e A t e b
 2. q e A t e b
 3. d e V t e b
 4. q e A t e P

Question ID : 65497835454
Status : Answered
Chosen Option : 1

Q.25 'Ammeter' is related to 'Current' in the same way as 'Anemometer' is related to

- Ans
- 1. Temperature
 - 2. Potential Difference
 - 3. Water
 - 4. Wind Speed and Direction

Question ID : 65497835461
Status : Answered
Chosen Option : 2

Section : Part B General Knowledge and General Awareness

Q.1 भारत में वन (संरक्षण) अधिनियम वर्ष _____ में पारित किया गया था।

- Ans
- 1. 1976
 - 2. 1988
 - 3. 1980
 - 4. 1974

Question ID : 65497835496
Status : Answered
Chosen Option : 1

Q.2 'प्रधान मंत्री जीवन ज्योति बीमा योजना' किस वर्ष शुरू की गई थी?

- Ans
- 1. 2018
 - 2. 2014
 - 3. 2015
 - 4. 2017

Question ID : 65497835483
Status : Answered
Chosen Option : 1

Q.3 निम्नलिखित में से किस वेब श्रृंखला ने 48वें अंतर्राष्ट्रीय ऐमी पुरस्कार 2020 में 'सर्वश्रेष्ठ ड्रामा सीरीज़' का पुरस्कार जीता?

- Ans
- 1. आश्रम
 - 2. मेड इन हेवन
 - 3. दिल्ली ब्राइम
 - 4. मिर्जापुर

Question ID : 65497835479
Status : Answered
Chosen Option : 4

Q.4 निम्नलिखित में से कौन सा कार्य मेडुला ऑब्लॉन्गेटा (medulla oblongata) द्वारा नियंत्रित नहीं होता है?

- Ans
- 1. छींकना
 - 2. उल्टी करना
 - 3. ताली बजाना
 - 4. खाँसना

Question ID : 65497835498
Status : Answered
Chosen Option : 1

Q.5 निम्नलिखित में से किस झील का निर्माण अत्यंतनूतन युग के दौरान उल्का प्रभाव द्वारा हुआ था?

- Ans
- 1. वेम्बनाड झील, केरल
 - 2. चिल्का झील, ओडिशा
 - 3. लोकटक झील, मणिपुर
 - 4. लोनार झील, महाराष्ट्र

Question ID : 65497835478

Status : Answered

Chosen Option : 1

Q.6 निम्नलिखित में से किस देश ने जून 2021 में आयोजित G7 लीडर्स समिट की अध्यक्षता की?

- Ans
- 1. कोरिया गणराज्य
 - 2. यूनाइटेड किंगडम
 - 3. भारत
 - 4. ऑस्ट्रेलिया

Question ID : 65497835497

Status : Answered

Chosen Option : 2

Q.7 सांप्रदायिक समस्याओं पर गांधी-जिन्ना वार्ता के टूटने के बाद एक न्यायिक ढांचे में सांप्रदायिक मामले की जांच करने के लिए नवंबर 1944 में गैर-दलीय सम्मेलन की स्थायी समिति द्वारा किस समिति को नियुक्त किया गया था?

- Ans
- 1. जाकिर हुसैन समिति
 - 2. सप्रू समिति
 - 3. सरदार पटेल समिति
 - 4. बलवंत राय मेहता समिति

Question ID : 65497835482

Status : Answered

Chosen Option : 3

Q.8 17 सितंबर, 2020 को, अंतर्राष्ट्रीय टेनिस महासंघ (ITF) ने यह घोषणा की, कि महासंघ या 'फेड' कप को अब महान महिला टेनिस खिलाड़ी के सम्मान में _____ के रूप में जाना जाएगा।

- Ans
- 1. मार्टिना नवरातिलोवा कप
 - 2. बिली जीन किंग कप
 - 3. क्रिस एवर्ट कप
 - 4. स्टेफी ग्राफ कप

Question ID : 65497835480

Status : Not Attempted and Marked For Review

Chosen Option : --

Q.9 सम्राट _____ ने मुहम्मद हुसैन अल-कातिब कश्मीरी को उनकी सुंदर लिखावट के लिए ज़रीन कलम (Zarin Qalam) या स्वर्ण कलम की उपाधि से सम्मानित किया।

- Ans
- 1. शाहजहाँ
 - 2. जहाँगीर
 - 3. औरंगज़ेब
 - 4. अकबर

Question ID : 65497835499

Status : Answered

Chosen Option : 2

Q.10 निम्न में से कौन नवंबर 2020 तक नेपाल की क्रिकेट टीम का कप्तान था?

- Ans
- 1. ज्ञानेंद्र मल्ला
 - 2. रोहित पौडेल
 - 3. संदीप लामिछाने
 - 4. दीपेन्द्र सिंह ऐरी

Question ID : 65497835493
Status : Answered
Chosen Option : 3

Q.11 अक्टूबर 2020 में, अपनी महिला यात्रियों की सुरक्षा के लिए भारतीय रेलवे द्वारा शुरू की गई पहल का नाम क्या था?

- Ans
- 1. नारी सेवा
 - 2. मेरी सहेली
 - 3. नारी सहायक
 - 4. नारी शक्ति

Question ID : 65497835487
Status : Answered
Chosen Option : 4

Q.12 जब भारत के संविधान का मसौदा तैयार किया जा रहा था, संविधान सभा को उस अशांति को ध्यान में रखना था जिससे भारत गुजर रहा था। उस परिदृश्य में निम्नलिखित में से कौन सा मुद्दा प्रासंगिक नहीं था?

- Ans
- 1. लोगों की सामाजिक-आर्थिक स्थिति बहुत अनुकूल थी।
 - 2. रियासतें अपने भविष्य के बारे में अनिश्चित थीं।
 - 3. देश कई अलग-अलग समुदायों से बना था।
 - 4. भारत और पाकिस्तान के विभाजन की पुष्टि हुई थी।

Question ID : 65497835486
Status : Answered
Chosen Option : 1

Q.13 कदमाई _____ राजवंश के तहत भू-राजस्व का एक रूप था।

- Ans
- 1. चोल
 - 2. कुषाण
 - 3. चालुक्य
 - 4. गुप्त

Question ID : 65497835494
Status : Answered
Chosen Option : 1

Q.14 अरुणाचल के फिल्म निर्माता को 2020 में _____ पर एक वृत्तचित्र (डाक्यूमेंट्री) के लिए प्रतिष्ठित दादा साहेब फाल्के पुरस्कार प्राप्त हुआ था।

- Ans
- 1. नाव की सवारी
 - 2. शहद निकालने
 - 3. जानवरों के शिकार
 - 4. पक्षी देखना

Question ID : 65497835491
Status : Answered
Chosen Option : 3

Q.15 निम्नलिखित में से कौन सी, 'ठोस' की विशेषता नहीं है?

- Ans
- 1. ठोस का एक निश्चित आयतन होता है।
 - 2. ठोस को आसानी से संपीडित किया जा सकता है।
 - 3. बल के अधीन होने पर ठोस टूट सकता है।
 - 4. ठोस के आकार को बदलना मुश्किल है, इसलिए वे कठोर होते हैं।

Question ID : 65497835489

Status : Answered

Chosen Option : 2

Q.16 7 सितंबर 2021 को, नासा (NASA) ने घोषणा की कि पर्सिवरेंस रोवर ने मंगल ग्रह की _____ के पहले नमूने के संग्रह का कार्य पूर्ण कर लिया है।

- Ans
- 1. मृदा
 - 2. धूल
 - 3. चट्टान
 - 4. बर्फ

Question ID : 65497835500

Status : Answered

Chosen Option : 3

Q.17 हम हिंदू कैलेंडर के अनुसार 'होली' का त्योहार किस दिन मनाते हैं?

- Ans
- 1. पूर्णिमा के एक दिन बाद
 - 2. अमावस्या के दिन
 - 3. पूर्णिमा से एक दिन पहले
 - 4. पूर्णिमा के दिन

Question ID : 65497835488

Status : Answered

Chosen Option : 2

Q.18 27 नवंबर 2020 तक, भारत का विदेशी मुद्रा भंडार लगभग _____ बिलियन था।

- Ans
- 1. \$774
 - 2. \$574
 - 3. \$474
 - 4. \$374

Question ID : 65497835481

Status : Answered

Chosen Option : 2

Q.19 निम्नलिखित में से कौन सी घटना वर्ष 1856 में हुई थी?

- Ans
- 1. तात्या टोपे को पकड़ लिया गया, भागने की कोशिश की और मार डाला गया।
 - 2. अवध पर ब्रिटिश ईस्ट इंडिया कंपनी ने कब्जा कर लिया था।
 - 3. मंगल पांडे को फांसी दी गई।
 - 4. बहादुर शाह जफर को रंगून की जेल भेज दिया गया।

Question ID : 65497835495

Status : Answered

Chosen Option : 4

Q.20 निम्न में से कौन-सा 1865 में स्थापित भारत का सबसे पुराना संयुक्त स्टॉक बैंक है?

- Ans
- 1. स्टेट बैंक ऑफ़ त्रावणकोर
 - 2. देना बैंक
 - 3. केनरा बैंक
 - 4. इलाहाबाद बैंक (अब इंडियन बैंक)

Question ID : 65497835485
Status : Answered
Chosen Option : 4

Q.21 निम्नलिखित में से कौन सा एक एककोशिकीय जीव है?

- Ans
- 1. लाल शैवाल
 - 2. मांसपेशियों की कोशिकाएं
 - 3. कवक
 - 4. जीवाणु

Question ID : 65497835490
Status : Answered
Chosen Option : 1

Q.22 शास्त्रीय गायिका, गिरिजा देवी हिंदुस्तानी शास्त्रीय संगीत के किस स्वरूप में पारंगत थीं?

- Ans
- 1. तराना
 - 2. ध्रुपद
 - 3. ठुमरी
 - 4. खयाल

Question ID : 65497835477
Status : Not Answered
Chosen Option : --

Q.23 2011 की जनगणना के अनुसार भारत के निम्नलिखित में से किस राज्य में जनसंख्या का सबसे अधिक घनत्व था?

- Ans
- 1. सिक्किम
 - 2. बिहार
 - 3. मध्य प्रदेश
 - 4. उत्तर प्रदेश

Question ID : 65497835492
Status : Answered
Chosen Option : 2

Q.24 200 एक दिवसीय अंतरराष्ट्रीय (ODI) मैच खेलने वाली पहली भारतीय महिला क्रिकेटर निम्नलिखित में से कौन है?

- Ans
- 1. अनुजा पाटिल
 - 2. मिताली राज
 - 3. पूनम यादव
 - 4. दीप्ति शर्मा

Question ID : 65497835484
Status : Answered
Chosen Option : 2

Q.25 निम्नलिखित में से कौन-सी नदी तिब्बत, भारत और बांग्लादेश से होकर बहती है?

- Ans 1. ब्रह्मपुत्र
 2. यमुना
 3. नर्मदा
 4. गंगा

Question ID : 65497835476
Status : Answered
Chosen Option : 1

Section : Part C Elementary Mathematics

Q.1 Varun bought a curtain cloth from a wholesaler at 20% discount on the marked price. He then marked the cloth at 20% higher than the original marked price and allowed 10% discount. What is his percentage profit?

- Ans 1. 25
 2. 20
 3. 30
 4. 35

Question ID : 65497835501
Status : Answered
Chosen Option : 4

Q.2 $85 \div 17$ of $4 - [65 \div 13$ of $2 - 14 \times (19 - 25) \div 12 - 10]$ of $\frac{2}{3}$ का मान ज्ञात कीजिए।

- Ans 1. $\frac{11}{12}$
 2. $\frac{3}{2}$
 3. $\frac{7}{6}$
 4. $\frac{19}{12}$

Question ID : 65497835521
Status : Answered
Chosen Option : 4

Q.3 One-fifth of three-eighths of two-thirds of a number is 20. What is 60% of that number?

- Ans 1. 120
 2. 156
 3. 365
 4. 240

Question ID : 65497835514
Status : Answered
Chosen Option : 4

Q.4 किसी स्कूल में लड़कियों और लड़कों की संख्या का अनुपात 2 : 7 है। यदि लड़कियों और लड़कों की संख्या में क्रमशः 15% और 20% की वृद्धि हो जाती है, तो नया अनुपात कितना होगा?

- Ans**
- 1. 23 : 84
 - 2. 19 : 14
 - 3. 24 : 71
 - 4. 21 : 22

Question ID : 65497835519
Status : Answered
Chosen Option : 1

Q.5 A trader allows a discount of 10% on the marked price and still gains 8% on the whole. At what percentage above the cost price does he mark his goods?

- Ans**
- 1. 35%
 - 2. 25%
 - 3. 18%
 - 4. 20%

Question ID : 65497835504
Status : Answered
Chosen Option : 4

Q.6 Rohit can complete a piece of work in 32 days, while Raj can complete it by himself in 48 days. They started the work together, but Rohit left 8 days before the work got over. For how many days did they work together?

- Ans**
- 1. 18
 - 2. 12
 - 3. 15
 - 4. 16

Question ID : 65497835515
Status : Answered
Chosen Option : 2

Q.7 The average monthly income of A and B is ₹4,500, the average monthly income of B and C is ₹5,600, and the average monthly income of A and C is ₹4,800. Find the monthly income of B.

- Ans**
- 1. ₹6,900
 - 2. ₹4,750
 - 3. ₹3,700
 - 4. ₹5,300

Question ID : 65497835512
Status : Answered
Chosen Option : 4

Q.8 A person saves 12% of his income. One year later, his income shoots up by 25% but he still saves the same amount of money. What is the percentage hike in his expenditure?

- Ans**
- 1. 27.4%
 - 2. 28.4%
 - 3. 25.4%
 - 4. 33%

Question ID : **65497835503**
Status : **Answered**
Chosen Option : **2**

Q.9 Two friends, A and B, invested in a business in the ratio of 3 : 4. A withdrew his share two months early. At the end of one year, the total profit was ₹2,600. A's share of profit will be:

- Ans**
- 1. ₹750
 - 2. ₹1,000
 - 3. ₹800
 - 4. ₹1,110

Question ID : **65497835508**
Status : **Not Answered**
Chosen Option : --

Q.10 Find the single discount equivalent to two successive discounts of 25% and 10%.

- Ans**
- 1. 28%
 - 2. 40.25%
 - 3. 32.5%
 - 4. 45.5%

Question ID : **65497835513**
Status : **Answered**
Chosen Option : **3**

Q.11 The ratio of the radii of two right circular cones, C and D, is 2 : 3 and their heights are in the ratio 3 : 2. The ratio of the volume of cone D to that of cone C is:

- Ans**
- 1. 4 : 3
 - 2. 2 : 3
 - 3. 3 : 4
 - 4. 3 : 2

Question ID : **65497835510**
Status : **Answered**
Chosen Option : **4**

Q.12 $\frac{2}{5}$ of $7\frac{1}{2} \div \frac{3}{4} - \frac{3}{4} \times 1\frac{1}{2} \div 2\frac{1}{4}$ का मान ज्ञात कीजिए।
 $5\frac{1}{2} \div 3\frac{2}{3}$ of $\frac{3}{8}$

- Ans
- 1. $\frac{3}{4}$
 - 2. $\frac{1}{2}$
 - 3. $\frac{7}{8}$
 - 4. $\frac{5}{3}$

Question ID : 65497835524

Status : Answered

Chosen Option : 3

Q.13 एक परिवार में 5 व्यक्ति चीनी की खरीद पर 10% खर्च करते हैं। चीनी के मूल्य में 10% की वृद्धि हुई। व्यय में वृद्धि न होने देने के लिए चीनी की खपत में प्रतिशत कमी क्या होनी चाहिए?

- Ans
- 1. 11%
 - 2. $9\frac{1}{11}\%$
 - 3. 10%
 - 4. 9%

Question ID : 65497835511

Status : Not Answered

Chosen Option : --

Q.14 A sum of money at compound interest amounts to seven times of itself in 3 years. In how many years will it be 2401 times of itself?

- Ans
- 1. 9
 - 2. 12
 - 3. 18
 - 4. 15

Question ID : 65497835506

Status : Answered

Chosen Option : 2

Q.15 How many maximum litres of milk can a hemispherical bowl of diameter 9 cm hold approximately?

- Ans
- 1. 0.191 litres
 - 2. 0.90 litres
 - 3. 0.0191 litres
 - 4. 1.90 litres

Question ID : 65497835507

Status : Answered

Chosen Option : 3

Q.16 कार्तिकेय ने 2% वार्षिक व्याज की दर से चक्रवृद्धि व्याज पर 3 वर्ष के लिए सावधि जमा योजना में ₹9,000 की राशि का निवेश किया। सावधि जमा राशि की परिपक्वता पर उसे कितनी राशि (दशमलव के दो स्थानों तक सही) मिलेगी?

- Ans**
- 1. ₹9,650
 - 2. ₹10,255.25
 - 3. ₹9,525.50
 - 4. ₹9,550.87

Question ID : **65497835520**
Status : **Answered**
Chosen Option : **4**

Q.17 By selling 90 pens for ₹1,575, a shopkeeper loses 30%. How many pens should he sell for ₹708 so as to earn a profit of 18%?

- Ans**
- 1. 30
 - 2. 20
 - 3. 24
 - 4. 25

Question ID : **65497835522**
Status : **Not Answered**
Chosen Option : --

Q.18 Find the least number which is a perfect square and is divisible by each of the following numbers.

15, 24 and 36

- Ans**
- 1. 3600
 - 2. 1600
 - 3. 900
 - 4. 6400

Question ID : **65497835517**
Status : **Answered**
Chosen Option : **1**

Q.19 Pipes A and B can fill a tank in 18 hours and 27 hours, respectively. If both the pipes are opened on alternate hours, one at a time, and pipe A is opened for the first hour, then in how many hours will the tank be filled completely?

- Ans**
- 1. 21
 - 2. $20\frac{1}{2}$
 - 3. 20
 - 4. $21\frac{1}{2}$

Question ID : **65497835523**
Status : **Answered**
Chosen Option : **4**

Q.20 For a certain sum, in 2 years, the simple interest is ₹80 and the compound interest for the same period and at the same rate of interest is ₹85. The rate of interest per annum is:

- Ans
- 1. 7.5%
 - 2. 8.5%
 - 3. 12.5%
 - 4. 5.5%

Question ID : 65497835509
Status : Answered
Chosen Option : 3

Q.21 6 व्यक्तियों का औसत वजन 1.5 kg बढ़ जाता है जब उनमें से 45 kg वजन वाले व्यक्ति के स्थान पर एक नया व्यक्ति आता है। नए व्यक्ति का वजन कितना होना चाहिए?

- Ans
- 1. 54 kg
 - 2. 55 kg
 - 3. 50 kg
 - 4. 48 kg

Question ID : 65497835518
Status : Answered
Chosen Option : 1

Q.22 यदि $0.35 : x :: 5 : 6$ है, तो x का मान कितना है?

- Ans
- 1. 0.48
 - 2. 0.42
 - 3. 0.34
 - 4. 0.44

Question ID : 65497835505
Status : Answered
Chosen Option : 2

Q.23 एक मोटरकार ने 60 km/h की चाल से चलना प्रारंभ किया, और इसकी चाल प्रत्येक 3 घंटे पर 20 km/h बढ़ाई जाती है। 470 km की दूरी तय करने में इसे कितने घंटे लगेंगे?

- Ans
- 1. $6\frac{1}{4}$
 - 2. $5\frac{2}{3}$
 - 3. 7
 - 4. $6\frac{1}{2}$

Question ID : 65497835516
Status : Answered
Chosen Option : 4

Q.24 यदि $9987693 \times 6432 \times 7695$ को 10 से भाग दिया जाता है, तो शेषफल कितना बचेगा?

- Ans
- 1. 6
 - 2. 0
 - 3. 1
 - 4. 9

Question ID : 65497835502
Status : Answered
Chosen Option : 2

Q.25 एक आदमी एक निश्चित दूरी के दो-तिहाई भाग को 70 km/h की चाल से और शेष दूरी को 50 km/h की चाल से तय करता है। पूरी यात्रा में उसे $6\frac{4}{5}$ घंटे का समय लगता है। 56 km/h की चाल से, वह पूरी दूरी कितने समय में तय कर पाएगा?

- Ans
- 1. 7 घंटे
 - 2. $8\frac{1}{3}$ घंटे
 - 3. $7\frac{1}{2}$ घंटे
 - 4. 8 घंटे

Question ID : 65497835525
Status : Not Answered
Chosen Option : --

Section : Part D English

Q.1 Select the most appropriate meaning of the given idiom.

To get out of hand

- Ans
- 1. To get out of control
 - 2. To get an award
 - 3. To get angry
 - 4. To get in a trouble

Question ID : 65497835530
Status : Answered
Chosen Option : 1

Q.2 The following sentence has been split into four segments. Identify the segment that contains a grammatical error.

The visitors / were being showed / a collection of / old manuscripts.

- Ans
- 1. a collection of
 - 2. old manuscripts
 - 3. The visitors
 - 4. were being showed

Question ID : 65497835539
Status : Answered
Chosen Option : 4

Q.3 The following sentence has been split into four segments. Identify the segment that contains a grammatical error.

Mohit is expecting / a huge profit / at his / recent investment.

- Ans 1. at his
 2. a huge profit
 3. Mohit is expecting
 4. recent investment

Question ID : 65497835543
Status : Answered
Chosen Option : 1

Q.4 Select the most appropriate option to fill in the blank.

When his mother was away, he took the _____ of his little brother.

- Ans 1. management
 2. power
 3. charge
 4. duty

Question ID : 65497835526
Status : Answered
Chosen Option : 1

Q.5 Select the most appropriate option to fill in the blank.

Mere classroom teaching-learning is boring and _____ for students.

- Ans 1. varied
 2. monotonous
 3. exciting
 4. interesting

Question ID : 65497835533
Status : Answered
Chosen Option : 2

Q.6 Select the most appropriate synonym of the given word.

Maintain

- Ans 1. Care
 2. Ignore
 3. Release
 4. Neglect

Question ID : 65497835528
Status : Answered
Chosen Option : 1

Q.7 Select the most appropriate ANTONYM of the given word.

Beneficial

- Ans
- 1. Careful
 - 2. Fearful
 - 3. Hopeful
 - 4. Harmful

Question ID : 65497835534
Status : Answered
Chosen Option : 4

Q.8 Select the option that can be used as a one-word substitute for the given group of words.

The sound of owls

- Ans
- 1. Hoot
 - 2. Caw
 - 3. Cluck
 - 4. Moo

Question ID : 65497835545
Status : Answered
Chosen Option : 1

Q.9 Select the most appropriate option to fill in the blank.

He _____ an important question in the meeting.

- Ans
- 1. rose
 - 2. risen
 - 3. rise
 - 4. raised

Question ID : 65497835536
Status : Answered
Chosen Option : 1

Q.10 Select the INCORRECTLY spelt word.

- Ans
- 1. Brilliant
 - 2. Illusion
 - 3. Scrutiny
 - 4. Abandan

Question ID : 65497835542
Status : Answered
Chosen Option : 4

Q.11 Select the option that can be used as a one-word substitute for the given group of words.

Able to be harmed easily

Ans ✓ 1. Vulnerable

✗ 2. Available

✗ 3. Accessible

✗ 4. Flexible

Question ID : 65497835541

Status : Answered

Chosen Option : 1

Q.12 The following sentence has been divided into parts. One of them may contain an error. Select the part that contains the error from the given options. If you don't find any error, mark 'No error' as your answer.

May I / please borrow / yours book?

Ans ✗ 1. No error

✓ 2. yours book

✗ 3. May I

✗ 4. please borrow

Question ID : 65497835527

Status : Answered

Chosen Option : 2

Q.13 Select the most appropriate option that can substitute the underlined segment in the given sentence. If there is no need to substitute it, select 'No substitution required'.

The task our English teacher gave us was both challenging and entertaining.

Ans ✓ 1. No substitution required

✗ 2. was together challenged

✗ 3. was both challenge

✗ 4. is additionally challenging

Question ID : 65497835537

Status : Answered

Chosen Option : 1

Q.14 Select the INCORRECTLY spelt word.

Ans ✓ 1. Pretanse

✗ 2. Reliance

✗ 3. Alliance

✗ 4. Defiance

Question ID : 65497835535

Status : Answered

Chosen Option : 1

Q.15 Select the most appropriate SYNONYM of the given word.

Compose

- Ans 1. Clutch
 2. Confuse
 3. Collect
 4. Cuddle

Question ID : 65497835544
Status : Answered
Chosen Option : 2

Q.16 Select the most appropriate meaning of the given idiom.

To take stock of

- Ans 1. To measure
 2. To think carefully
 3. To count
 4. To discuss

Question ID : 65497835529
Status : Answered
Chosen Option : 2

Q.17 Select the option that can be used as a one-word substitute for the given group of words.

A large number of things placed one on top of another

- Ans 1. Batch
 2. Group
 3. Pile
 4. Load

Question ID : 65497835531
Status : Answered
Chosen Option : 4

Q.18 Select the option that will improve the underlined part of the given sentence. In case no improvement is needed, select 'No improvement required'.

The children were been drove to the picnic spot in the school bus.

- Ans 1. were been driving
 2. were being driven
 3. were been driven
 4. No improvement required

Question ID : 65497835538
Status : Answered
Chosen Option : 2

Q.19 Select the option that will improve the underlined part of the given sentence. In case no improvement is needed, select 'No improvement required'.

Aphrodite vowed that Paris would had the most beautiful woman as his wife.

- Ans
- 1. will be having
 - 2. would have
 - 3. No improvement required
 - 4. would be having

Question ID : 65497835532
Status : Answered
Chosen Option : 2

Q.20 Select the most appropriate ANTONYM of the given word.

Stout

- Ans
- 1. Obese
 - 2. Heavy
 - 3. Thin
 - 4. Bulky

Question ID : 65497835540
Status : Marked For Review
Chosen Option : 2

Comprehension:

In the following passage, some words have been deleted. Read the passage carefully and select the most appropriate option to fill in each blank.

Football legend Diego Maradona was buried in a private ceremony after a day of (1) _____ scenes in the Argentine capital Buenos Aires. Only (2) _____ two dozen relatives and close friends (3) _____ the final ceremony on Thursday. But (4) _____ huge crowds turned out to pay (5) _____ respects, with many weeping, blowing kisses and praying as they filed past his coffin.

SubQuestion No : 21

Q.21 Select the most appropriate option to fill in blank no. 1.

- Ans
- 1. impressive
 - 2. exciting
 - 3. emotional
 - 4. expressive

Question ID : 65497835547
Status : Answered
Chosen Option : 3

Comprehension:

In the following passage, some words have been deleted. Read the passage carefully and select the most appropriate option to fill in each blank.

Football legend Diego Maradona was buried in a private ceremony after a day of (1) _____ scenes in the Argentine capital Buenos Aires. Only (2) _____ two dozen relatives and close friends (3) _____ the final ceremony on Thursday. But (4) _____ huge crowds turned out to pay (5) _____ respects, with many weeping, blowing kisses and praying as they filed past his coffin.

SubQuestion No : 22

Q.22 Select the most appropriate option to fill in blank no. 2.

- Ans 1. around
 2. more or less
 3. roughly
 4. just

Question ID : 65497835548
Status : Answered
Chosen Option : 4

Comprehension:

In the following passage, some words have been deleted. Read the passage carefully and select the most appropriate option to fill in each blank.

Football legend Diego Maradona was buried in a private ceremony after a day of (1) _____ scenes in the Argentine capital Buenos Aires. Only (2) _____ two dozen relatives and close friends (3) _____ the final ceremony on Thursday. But (4) _____ huge crowds turned out to pay (5) _____ respects, with many weeping, blowing kisses and praying as they filed past his coffin.

SubQuestion No : 23

Q.23 Select the most appropriate option to fill in blank no. 3.

- Ans 1. attending
 2. attended
 3. have attended
 4. attend

Question ID : 65497835549
Status : Answered
Chosen Option : 2

Comprehension:

In the following passage, some words have been deleted. Read the passage carefully and select the most appropriate option to fill in each blank.

Football legend Diego Maradona was buried in a private ceremony after a day of (1) _____ scenes in the Argentine capital Buenos Aires. Only (2) _____ two dozen relatives and close friends (3) _____ the final ceremony on Thursday. But (4) _____ huge crowds turned out to pay (5) _____ respects, with many weeping, blowing kisses and praying as they filed past his coffin.

SubQuestion No : 24

Q.24 Select the most appropriate option to fill in blank no. 4.

- Ans 1. early
 2. earliest
 3. earlier
 4. as early

Question ID : 65497835550
Status : Answered
Chosen Option : 3

Comprehension:

In the following passage, some words have been deleted. Read the passage carefully and select the most appropriate option to fill in each blank.

Football legend Diego Maradona was buried in a private ceremony after a day of (1) _____ scenes in the Argentine capital Buenos Aires. Only (2) _____ two dozen relatives and close friends (3) _____ the final ceremony on Thursday. But (4) _____ huge crowds turned out to pay (5) _____ respects, with many weeping, blowing kisses and praying as they filed past his coffin.

SubQuestion No : 25

Q.25 Select the most appropriate option to fill in blank no. 5.

- Ans 1. their
 2. his
 3. them
 4. its

Question ID : 65497835551
Status : Answered
Chosen Option : 1

Section : Part D Hindi

Q.1 दिए गए शब्द के समानार्थी शब्द का चयन करें।

नौका

- Ans 1. तरणी
 2. कलापी
 3. चपला
 4. धरनी

Question ID : 65497835558
Status : Not Answered
Chosen Option : --

Q.2 निराधार - रेखांकित शब्द का शब्द समूह बताइए।

- Ans 1. जो दर्द से भरा हो
 2. जिसका कोई आधार नहीं।
 3. जिसका आधार हो
 4. जो पढ़ा-लिखा न हो

Question ID : 65497835565
Status : Not Answered
Chosen Option : --

Q.3 दिए गए वाक्य में रेखांकित खंड को प्रतिस्थापित करने के लिए सबसे उपयुक्त विकल्प का चयन करें। यदि इसे प्रतिस्थापित करने की आवश्यकता नहीं है, तो विकल्प 'किसी बदलाव की आवश्यकता नहीं है' का चयन करें।

में गाने की कसरत कर रहा हूँ।

- Ans 1. गाने की रियाज़
 2. किसी बदलाव की आवश्यकता नहीं है।
 3. गाने कि प्रयत्न
 4. गाने कि पहल

Question ID : 65497835552
Status : Not Answered
Chosen Option : --

Q.4 'अतिथि की सेवा करने वाला' वाक्यांश के लिए एक शब्द होगा-

- Ans
- 1. आतिथ्य
 - 2. आतिथेयी
 - 3. अनुचर
 - 4. अतिथि

Question ID : 65497835569
Status : Not Answered
Chosen Option : --

Q.5 दिये गये वाक्य में रेखांकित अंश को प्रतिस्थापित करने के लिए सबसे उपयुक्त विकल्प का चयन करें।

तुम्हें ऐसा नहीं बोलना चाहिए।

- Ans
- 1. भूकना
 - 2. कहना
 - 3. उगलना
 - 4. चिल्लाना

Question ID : 65497835567
Status : Not Answered
Chosen Option : --

Q.6 'मन मैला करना' मुहावरे का सही अर्थ क्या है?

- Ans
- 1. ईर्ष्या करना
 - 2. दोषारोपण करना
 - 3. घृणा करना
 - 4. खिन्न होना

Question ID : 65497835571
Status : Not Answered
Chosen Option : --

Q.7 दिये गये वाक्य के किस भाग में त्रुटि है?

अब आज से इस प्रकार की गलती मत करना।

- Ans
- 1. की गलती
 - 2. मत करना।
 - 3. इस प्रकार
 - 4. अब आज से

Question ID : 65497835566
Status : Not Answered
Chosen Option : --

Q.8 निम्नलिखित में से शुद्ध वर्तनी वाला शब्द कौन सा है?

- Ans
- 1. संसारीक
 - 2. सांसारीक
 - 3. सांसारिक
 - 4. संसारिक

Question ID : 65497835564
Status : Not Answered
Chosen Option : --

Q.9 निम्नलिखित में से शुद्ध वर्तनी वाला शब्द कौन सा है?

- Ans 1. नमष्कार
 2. नमस्कार
 3. नमश्कार
 4. नमोष्कार

Question ID : 65497835563
Status : Not Answered
Chosen Option : --

Q.10 रिक्त स्थान को भरने के लिए सबसे उपयुक्त शब्द का चयन करें।

बन्दूक एक बहुत ही उपयोगी _____ है।

- Ans 1. वस्त्र
 2. शास्त्र
 3. शस्त्र
 4. सर्वत्र

Question ID : 65497835559
Status : Not Answered
Chosen Option : --

Q.11 'किसी बड़े और महत्वपूर्ण कार्य का स्मरण चिह्न या रचना' इस वाक्यांश के लिए एक सार्थक शब्द दीजिए।

- Ans 1. सम्मान
 2. यश
 3. कीर्ति
 4. श्रेय

Question ID : 65497835553
Status : Not Answered
Chosen Option : --

Q.12 'निर्जीव' का विलोम शब्द होगा-

- Ans 1. सजीव
 2. अजीव
 3. सहजीव
 4. सगुण

Question ID : 65497835568
Status : Not Answered
Chosen Option : --

Q.13 'ढेड़ चावल की खिचड़ी पकाना' इस मुहावरे के उचित अर्थ का चयन कीजिए।

- Ans 1. छोटी उम्र में अधिक ज्ञानी होना
 2. अत्यधिक आभाव होना
 3. बहुमत से अलग रहना
 4. बहुमत का सम्मन करना

Question ID : 65497835554
Status : Not Answered
Chosen Option : --

Q.14 रिक्त स्थान भरने के लिए सबसे उपयुक्त शब्द का चयन करें।

_____ खाना तैयार करती हैं।

- Ans
- 1. भैया
 - 2. लड़की
 - 3. बहू
 - 4. बहुएँ

Question ID : 65497835555
Status : Not Answered
Chosen Option : --

Q.15 दिए गए वाक्य का वह भाग ज्ञात करें जिसमें कोई त्रुटि है। यदि कोई त्रुटि नहीं है, तो 'कोई त्रुटि नहीं है' चुनें।

में (1)/ सप्रमाण सहित/ (2) बता रहा हूँ। (3)/ कोई त्रुटि नहीं है/ (4)

- Ans
- 1. 4
 - 2. 2
 - 3. 3
 - 4. 1

Question ID : 65497835560
Status : Not Answered
Chosen Option : --

Q.16 'श्रव्य' का विलोम शब्द होगा-

- Ans
- 1. अलौकिक
 - 2. दृश्य
 - 3. अदृश्य
 - 4. कटु

Question ID : 65497835570
Status : Not Answered
Chosen Option : --

Q.17 दिए गए वाक्य में रेखांकित खंड को प्रतिस्थापित करने के लिए सबसे उपयुक्त विकल्प का चयन करें। यदि इसे प्रतिस्थापित करने की आवश्यकता नहीं है, तो विकल्प 'किसी बदलाव की आवश्यकता नहीं है' का चयन करें।

घनी झाड़ियों के पीछे छिपकर बैठी बिल्ली कुत्ते की जाने की प्रतीक्षा करने लगी।

- Ans
- 1. कुत्ते के जाने की प्रतीक्षा करने लगी।
 - 2. किसी बदलाव की आवश्यकता नहीं है।
 - 3. कुत्ते के जाने में प्रतीक्षा करने लगे।
 - 4. कुत्ते के जाने की प्रतीक्षा करने लगा।

Question ID : 65497835562
Status : Not Answered
Chosen Option : --

Q.18 दिए गए शब्द के समानार्थी शब्द का चयन करें।

आनंद

- Ans 1. आह्लाद
 2. संस्कार
 3. संवाद
 4. पुरस्कार

Question ID : 65497835561
Status : Not Answered
Chosen Option : --

Q.19 रिक्त स्थान को भरने के लिए सबसे उपयुक्त शब्द का चयन करें।

क्रोध और लोभ, व्यक्ति के _____ हैं।

- Ans 1. अजातशत्रु
 2. चिर शत्रु
 3. चिरमित्र
 4. महान गुरु

Question ID : 65497835556
Status : Not Answered
Chosen Option : --

Q.20 दिए गए वाक्य का वह भाग ज्ञात करें जिसमें कोई त्रुटि है। यदि कोई त्रुटि नहीं है, तो 'कोई त्रुटि नहीं है' चुनें।

किसी भी भाषा की (1)/ वर्तनी सबसे अधिक (2)/ महत्व की चीज है (3)/ कोई त्रुटि नहीं है (4)

- Ans 1. 4
 2. 3
 3. 2
 4. 1

Question ID : 65497835557
Status : Not Answered
Chosen Option : --

Comprehension:

शंका नैराश्य का लक्षण नहीं, आशा का ही स्रोत है। असल में जिन चीजों के बारे में हमें (1)_____ नहीं होती, उनकी असलियत तक पहुँचना भी हमारे लिए दुश्वार होता है। शंका मनुष्य को (2)_____ रहती है, शंका कठिनाई के भीतर से चलकर (3)_____ तक पहुँचने की राह है। शंका को सही बिंदु से देखकर उसका (4)_____ खोजने की कोशिश करना विद्वता की सबसे बड़ी पहचान है। विश्वास की अंधता में सो जाने की अपेक्षा शंका के (5)_____ पर चलते रहना धर्म की कहीं बड़ी पहचान है।

निम्न प्रश्नों के उत्तर उपरोक्त गद्यांश के आधार पर दीजिए।

SubQuestion No : 21

Q.21 गद्यांश के रिक्त स्थान (1) के लिए सर्वाधिक उपयुक्त शब्द होगा-

- Ans 1. चिंता
 2. ईर्ष्या
 3. शंका
 4. लज्जा

Question ID : 65497835573
Status : Not Answered
Chosen Option : --

Comprehension:

शंका नैराश्य का लक्षण नहीं, आशा का ही स्रोत है। असल में जिन चीजों के बारे में हमें (1)_____ नहीं होती, उनकी असलियत तक पहुँचना भी हमारे लिए दुश्वार होता है। शंका मनुष्य को (2)_____ रहती है, शंका कठिनाई के भीतर से चलकर (3)_____ तक पहुँचने की राह है। शंका को सही बिंदु से देखकर उसका (4)_____ खोजने की कोशिश करना विद्वता की सबसे बड़ी पहचान है। विश्वास की अंधता में सो जाने की अपेक्षा शंका के (5)_____ पर चलते रहना धर्म की कहीं बड़ी पहचान है।

निम्न प्रश्नों के उत्तर उपरोक्त गद्यांश के आधार पर दीजिए।

SubQuestion No : 22

Q.22 गद्यांश के रिक्त स्थान (2) के लिए सर्वाधिक उपयुक्त शब्द होगा-

- Ans
- 1. जलाये
 - 2. भगाये
 - 3. जगाये
 - 4. सुलाये

Question ID : 65497835574
Status : Not Answered
Chosen Option : --

Comprehension:

शंका नैराश्य का लक्षण नहीं, आशा का ही स्रोत है। असल में जिन चीजों के बारे में हमें (1)_____ नहीं होती, उनकी असलियत तक पहुँचना भी हमारे लिए दुश्वार होता है। शंका मनुष्य को (2)_____ रहती है, शंका कठिनाई के भीतर से चलकर (3)_____ तक पहुँचने की राह है। शंका को सही बिंदु से देखकर उसका (4)_____ खोजने की कोशिश करना विद्वता की सबसे बड़ी पहचान है। विश्वास की अंधता में सो जाने की अपेक्षा शंका के (5)_____ पर चलते रहना धर्म की कहीं बड़ी पहचान है।

निम्न प्रश्नों के उत्तर उपरोक्त गद्यांश के आधार पर दीजिए।

SubQuestion No : 23

Q.23 गद्यांश के रिक्त स्थान (3) के लिए सर्वाधिक उपयुक्त शब्द होगा-

- Ans
- 1. निर्णय
 - 2. साधन
 - 3. सत्य
 - 4. लक्ष्य

Question ID : 65497835575
Status : Not Answered
Chosen Option : --

Comprehension:

शंका नैराश्य का लक्षण नहीं, आशा का ही स्रोत है। असल में जिन चीजों के बारे में हमें (1)_____ नहीं होती, उनकी असलियत तक पहुँचना भी हमारे लिए दुश्वार होता है। शंका मनुष्य को (2)_____ रहती है, शंका कठिनाई के भीतर से चलकर (3)_____ तक पहुँचने की राह है। शंका को सही बिंदु से देखकर उसका (4)_____ खोजने की कोशिश करना विद्वता की सबसे बड़ी पहचान है। विश्वास की अंधता में सो जाने की अपेक्षा शंका के (5)_____ पर चलते रहना धर्म की कहीं बड़ी पहचान है।

निम्न प्रश्नों के उत्तर उपरोक्त गद्यांश के आधार पर दीजिए।

SubQuestion No : 24

Q.24 गद्यांश के रिक्त स्थान (4) के लिए सर्वाधिक उपयुक्त शब्द होगा-

- Ans
- 1. अवदान
 - 2. समाधान
 - 3. प्रभाव
 - 4. परिणाम

Question ID : 65497835576
Status : Not Answered
Chosen Option : --

Comprehension:

शंका नैराश्य का लक्षण नहीं, आशा का ही स्रोत है। असल में जिन चीजों के बारे में हमें (1)_____ नहीं होती, उनकी असलियत तक पहुँचना भी हमारे लिए दुश्वार होता है। शंका मनुष्य को (2)_____ रहती है, शंका कठिनाई के भीतर से चलकर (3)_____ तक पहुँचने की राह है। शंका को सही बिंदु से देखकर उसका (4)_____ खोजने की कोशिश करना विद्वता की सबसे बड़ी पहचान है। विश्वास की अंधता में सो जाने की अपेक्षा शंका के (5)_____ पर चलते रहना धर्म की कहीं बड़ी पहचान है।

निम्न प्रश्नों के उत्तर उपरोक्त गद्यांश के आधार पर दीजिए।

SubQuestion No : 25

Q.25 गद्यांश के रिक्त स्थान (5) के लिए सर्वाधिक उपयुक्त शब्द होगा-

- Ans
- 1. फूल
 - 2. धूल
 - 3. शरीर
 - 4. शूल

Question ID : 65497835577

Status : Not Answered

Chosen Option : --