



सत्यमेव जयते

**SSC
GD**

**Previous Year Paper
22 Nov 2021 Shift 2**

Exam Date	22/11/2021
Exam Time :	12:30 PM - 2:00 PM
Subject	Constable GD 2021

Section : Part A General Intelligence and Reasoning

Q.1 उस विकल्प का चयन करें जो तीसरे पद से ठीक उसी प्रकार से संबंधित है जैसे दूसरा पद पहले पद से संबंधित है।

DEATH : IZZPL :: LITRE : ?

Ans 1. QDGNL

2. GNGNI

3. GNGVA

4. QDXVA

Question ID : 65497836104

Status : Answered

Chosen Option : 1

Q.2 दिए गए पैटर्न का ध्यानपूर्वक अध्ययन कीजिए और उस संख्या का चयन कीजिए जो इसमें प्रश्नवाचक चिह्न (?) के स्थान पर आ सकती है।

16 295 19

9 144 17

26 ? 16

Ans 1. 407

2. 398

3. 406

4. 395

Question ID : 65497836093

Status : Answered

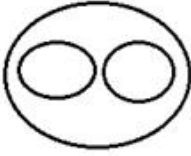
Chosen Option : 1

Q.3 उस वेन आरेख का चयन कीजिए जो निम्न वर्गों के मध्य के संबंध का सर्वश्रेष्ठ निरूपण करता है।

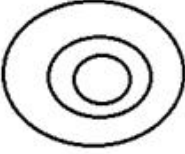
इलाइची, मसाले, धनिया के बीज

Ans

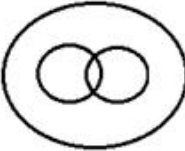
✓ 1.



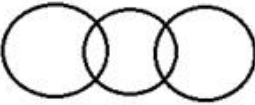
✗ 2.



✗ 3.



✗ 4.



Question ID : 65497836110

Status : Answered

Chosen Option : 1

Q.4 एक निश्चित कूट भाषा में, 'he came back' को 'ni ji pa' लिखा जाता है, 'go back now' को 'pa ja ka' लिखा जाता है और 'stop it now' को 'ka my uk' लिखा जाता है। उसी कूट भाषा में 'go' को क्या लिखा जाएगा?

Ans ✗ 1. ka

✗ 2. ni

✓ 3. ja

✗ 4. pa

Question ID : 65497836091

Status : Answered

Chosen Option : 3

Q.5 किसी कूट भाषा में, WHALE को 25103147 के रूप में कूटबद्ध किया जाता है। उसी भाषा में SHARK को किस प्रकार से कूटबद्ध किया जाएगा?

Ans ✗ 1. 211031037

✓ 2. 211032013

✗ 3. 19811811

✗ 4. 19812811

Question ID : 65497836097

Status : Answered

Chosen Option : 2

Q.6 A, B, C और D नाम के चार पुरुष और M, N, O और P नाम की चार महिलाएं एक गोल मेज के परितः एक महिला के बाद एक पुरुष के वैकल्पिक क्रम में बैठे हैं। P, B और A के बीच बैठी है। A, N के ठीक बगल में और D के सामने बैठा है। M, P के सामने बैठी है। B और D के बीच कौन बैठी है?

- Ans
- 1. N
 - 2. P
 - 3. O
 - 4. M

Question ID : 65497836086
Status : Answered
Chosen Option : 3

Q.7 दिए गए विकल्पों में से उस संख्या का चयन कीजिए जो दी गई श्रृंखला में प्रश्न चिह्न (?) के स्थान पर आ सकती है।

15, 16, 20, 47, 303, ?

- Ans
- 1. 1909
 - 2. 1936
 - 3. 3428
 - 4. 3473

Question ID : 65497836098
Status : Answered
Chosen Option : 3

Q.8 निम्नलिखित विकल्पों में से उस विकल्प का चयन करें, जो दिए गए शब्दों के उस सही क्रम को दर्शाता है, जिस क्रम में ये शब्द अंग्रेजी शब्दकोश में दिखाई देते हैं।

1. Marmatites
2. Martinec
3. Marijuana
4. Marehan
5. Marienbad

- Ans
- 1. 4, 5, 3, 2, 1
 - 2. 4, 5, 2, 1, 3
 - 3. 4, 5, 3, 1, 2
 - 4. 4, 5, 1, 3, 2

Question ID : 65497836100
Status : Answered
Chosen Option : 3

Q.9 दिए गए कथनों और निष्कर्षों को ध्यानपूर्वक पढ़ें। यह मानते हुए कि कथनों में दी गई सूचना सत्य है, भले ही वह सामान्य रूप से ज्ञात तथ्यों से भिन्न प्रतीत होती हो, बताइए कि दिए गए निष्कर्षों में से कौन सा / कौन से निष्कर्ष कथनों का तार्किक रूप से अनुसरण करता है / करते हैं।

कथन:

कुछ खिलाड़ी फुटबॉल खेलते हैं।
सभी खिलाड़ी, लोग हैं।

निष्कर्ष:

1. कोई भी लोग, फुटबॉल नहीं खेलते हैं।
2. कुछ लोग, फुटबॉल खेलते हैं।
3. सभी लोग, फुटबॉल खेलते हैं।

- Ans
- 1. निष्कर्ष 1 और 3 दोनों अनुसरण करते हैं।
 - 2. केवल निष्कर्ष 2 अनुसरण करता है।
 - 3. केवल निष्कर्ष 1 अनुसरण करता है।
 - 4. केवल निष्कर्ष 3 अनुसरण करता है।

Question ID : 65497836092

Status : Answered

Chosen Option : 2

Q.10 उस विकल्प का चयन करें जिसमें दी गई आकृति सन्निहित है (घुमाने की अनुमति नहीं है)।



Ans

- 1.
- 2.
- 3.
- 4.

Question ID : 65497836090

Status : Answered

Chosen Option : 3

Q.11 चार अक्षर-समूह दिए गए हैं, जिनमें से तीन किसी प्रकार से समान हैं और एक उनसे असंगत है। उस असंगत अक्षर-समूह का चयन करें।

- Ans
- 1. EFHK
 - 2. ABCG
 - 3. QRTW
 - 4. MNPS

Question ID : 65497836096

Status : Answered

Chosen Option : 2

Q.12 'हिरनी' का जो संबंध 'मृगशावक' से है, 'मुर्गी' का वही संबंध ' _____ ' से है।

- Ans
- 1. सिग्नेट
 - 2. सिंहशावक
 - 3. मेमना
 - 4. चूजे

Question ID : 65497836108
Status : Answered
Chosen Option : 4

Q.13 निम्नलिखित समीकरण को संतुलित बनाने के लिए किन दो गणितीय चिह्नों को परस्पर बदल देना चाहिए?

$$56 - 39 \times 4 \div 12 + 33 = 36$$

- Ans
- 1. \times, \div
 - 2. $+, \times$
 - 3. $-, +$
 - 4. $+, -$

Question ID : 65497836088
Status : Answered
Chosen Option : 4

Q.14 दिए गए विकल्पों में से उस संख्या का चयन करें, जो निम्नलिखित श्रृंखला में प्रश्नवाचक चिह्न (?) के स्थान पर आ सकती है।

$$3, 6, 18, 90, 630, ?$$

- Ans
- 1. 6930
 - 2. 6300
 - 3. 5670
 - 4. 5040

Question ID : 65497836102
Status : Answered
Chosen Option : 1

Q.15 दर्पण को दी गई आकृति के दाईं ओर रखे जाने पर, आकृति का दर्पण में निर्मित सही प्रतिबिंब चयनित करें।

9	2
3	5
2	6

Ans

✗ 1.

9	2
3	5
2	6

✗ 2.

9	5
3	2
5	0

✗ 3.

5	9
2	3
6	5

✓ 4.

5	9
2	3
0	5

Question ID : 65497836099

Status : Answered

Chosen Option : 4

Q.16 अक्षरों के उस संयोजन का चयन करें, जिसे जब दी गई श्रृंखला के रिक्त स्थानों में क्रम से रखा जाए, तो श्रृंखला पूर्ण होगी।

_ N M N _ M _ _ N _ M N _ N N

Ans ✗ 1. MMNNNM

✗ 2. NNMNMM

✗ 3. NNMMNM

✓ 4. MNNMNM

Question ID : 65497836101

Status : Answered

Chosen Option : 4

Q.17 अमित ने कहा कि वह अपने पिता के इकलौते भाई के पुत्र की माँ की सास से मिला था। अमित की मुलाकात किससे हुई थी?

Ans ✓ 1. दादी

✗ 2. चाची

✗ 3. बहन

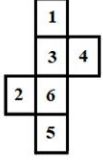
✗ 4. चचेरी बहन

Question ID : 65497836106

Status : Answered

Chosen Option : 1

Q.18 निम्नलिखित एक गैर-मानक खुला पासा है। पासे के किन दो पृष्ठों को एक मानक पासा बनाने के लिए परस्पर बदलने की आवश्यकता है?



- Ans
- 1. 5, 6
 - 2. 4, 3
 - 3. 2, 3
 - 4. 1, 5

Question ID : 65497836089

Status : Answered

Chosen Option : 2

Q.19 पांच व्यक्ति उत्तर दिशा की ओर अभिमुख होकर एक पंक्ति में बैठे हैं। पंक्ति में दोनों छोरों पर ड्राइवर और इलेक्ट्रीशियन बैठे हैं। प्लंबर ठीक बड़ई के दाईं ओर पड़ोस में बैठा है। मकैनिक ठीक इलेक्ट्रीशियन के बाईं ओर पड़ोस में बैठा है। बड़ई ठीक ड्राइवर और प्लंबर के बीच में बैठा है। निम्न में से कौन सा व्यक्ति पंक्ति के मध्य में बैठा है?

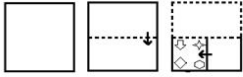
- Ans
- 1. प्लंबर
 - 2. बड़ई
 - 3. मकैनिक
 - 4. इलेक्ट्रीशियन

Question ID : 65497836109

Status : Answered


Chosen Option : 1

Q.20 निम्नांकित आकृतियों में एक कागज के टुकड़े को मोड़ने का क्रम और मुड़े हुए कागज को काटने की विधि दर्शाई गई है। यह कागज खोलने पर कैसा दिखेगा?




Ans

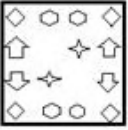
✓ 1.




✗ 2.



✗ 3.



✗ 4.



Question ID : 65497836095

Status : Answered

Chosen Option : 1

Q.21 उस विकल्प का चयन करें जो तीसरी संख्या से उसी तरह से संबंधित है जैसे दूसरी संख्या पहली संख्या से संबंधित है।

7 : 36 :: 5 : ?

Ans ✗ 1. 27

✗ 2. 35

✓ 3. 24

✗ 4. 30

Question ID : 65497836087

Status : Not Answered

Chosen Option : --

Q.22 When a number is subtracted from the square of 17, then the sum becomes 3 times the smallest whole number. Find the number subtracted.

Ans ✓ 1. 289

✗ 2. 268

✗ 3. 287

✗ 4. 276

Question ID : 65497836094

Status : Answered

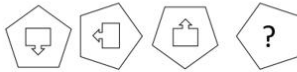
Chosen Option : 1

Q.23 किसी कूट भाषा में, 'VOLUME' को 'AUQARI' के रूप में लिखा जाता है। उसी भाषा में, 'DESIGN' को किस रूप में लिखा जाएगा?

- Ans
- 1. ZXILPR
 - 2. ZIXPLR
 - 3. IIXOLS
 - 4. IJYLOS

Question ID : 65497836105
Status : Answered
Chosen Option : 4

Q.24 दिए गए विकल्पों में से उस आकृति का चयन करें, जो निम्नलिखित श्रृंखला में प्रश्नवाचक चिह्न (?) के स्थान पर आ सकती है।



Ans

- 1.
- 2.
- 3.
- 4.

Question ID : 65497836103
Status : Answered
Chosen Option : 4

Q.25 उस विकल्प का चयन कीजिए जिसका तीसरे पद से वही संबंध है जो दूसरे पद का पहले पद से है।

BARK: FXWI :: STOP : ?

- Ans
- 1. WTQN
 - 2. WWTR
 - 3. WQTN
 - 4. WTWR

Question ID : 65497836107
Status : Answered
Chosen Option : 3

Q.1 वायसराय लॉर्ड कर्जन ने _____ में बंगाल का विभाजन किया था।

- Ans
- 1. 1904
 - 2. 1903
 - 3. 1905
 - 4. 1902

Question ID : 65497836129
Status : Answered
Chosen Option : 3

Q.2 In the symbol of the electric cell, the thicker, shorter line represents the:

- Ans
- 1. ring terminal
 - 2. positive terminal
 - 3. negative terminal
 - 4. neutral terminal

Question ID : 65497836112
Status : Answered
Chosen Option : 3

Q.3 मिड एयर रीफ्यूलिंग (हवा में ईंधन भराई) के बिना एक बार में ब्रह्मोस से लेस सुखोई-30 की रेंज कितने किलोमीटर है?

- Ans
- 1. 1000 km
 - 2. 3000 km
 - 3. 2000 km
 - 4. 1500 km

Question ID : 65497836126
Status : Not Answered
Chosen Option : --

Q.4 इरंड कप फुटबॉल टूर्नामेंट का 2021 संस्करण _____ में आयोजित किया गया था।

- Ans
- 1. नई दिल्ली
 - 2. गोवा
 - 3. बेंगलुरु
 - 4. कोलकाता

Question ID : 65497836135
Status : Not Answered
Chosen Option : --

Q.5 2020 में भारतीय क्रिकेट कंट्रोल बोर्ड (BCCI) द्वारा निम्नलिखित में से किस कंपनी को टीम इंडिया का आधिकारिक किट प्रायोजक घोषित किया गया था?

- Ans
- 1. 11 Wickets (11 विकेट्स)
 - 2. Mobile Premier League (मोबाइल प्रीमियर लीग, MPL)
 - 3. Dream 11 (ड्रीम इलेवन)
 - 4. BalleBaazi (बल्लेबाजी)

Question ID : 65497836116
Status : Answered
Chosen Option : 3

Q.6 दिल्ली सल्तनत के दौरान निम्नलिखित में से किस प्रकार का कर एकत्र किया जाता था?

- Ans
- 1. रैयतवाड़ी कर
 - 2. आयकर
 - 3. महालवाड़ी कर
 - 4. खराज कर

Question ID : 65497836128
Status : Answered
Chosen Option : 4

Q.7 इसाई समुदाय द्वारा जीसस क्राइस्ट के जन्म के उत्सव के रूप में मनाया जाने वाला वार्षिक त्योहार क्रिसमस, निम्न में से किस तारीख को मनाया जाता है?

- Ans
- 1. 29 दिसंबर
 - 2. 21 दिसंबर
 - 3. 25 दिसंबर
 - 4. 15 दिसंबर

Question ID : 65497836120
Status : Answered
Chosen Option : 3

Q.8 'रानी-की-वाव' या 'क्वीन'स स्टेपवेल (Queen's Stepwell)', _____ नदी के तट पर स्थित एक यूनेस्को (UNESCO) विश्व धरोहर स्थल है।

- Ans
- 1. सरस्वती
 - 2. कावेरी
 - 3. महानदी
 - 4. झेलम

Question ID : 65497836134
Status : Not Answered
Chosen Option : --

Q.9 किसकी अध्यक्षता वाले राष्ट्रीय किसान आयोग ने यह सुझाव दिया था कि कृषि फसलों के लिए न्यूनतम समर्थन मूल्य (MSP), उत्पादन की भारित औसत लागत से कम से कम 50% अधिक होना चाहिए?

- Ans
- 1. ए.एम. खुसरो
 - 2. जी.वी. रामकृष्ण
 - 3. एम.एस. स्वामीनाथन
 - 4. आर.वी. गुप्ता

Question ID : 65497836117
Status : Not Answered
Chosen Option : --

Q.10 जनवरी 2020 में बी.सी.सी.आई. (B.C.C.I.) के पॉली ऊमरीगर पुरस्कार द्वारा किसे सम्मानित किया गया था?

- Ans
- 1. रोहित शर्मा
 - 2. विराट कोहली
 - 3. जसप्रीत बुमराह
 - 4. शिखर धवन

Question ID : 65497836122
Status : Not Answered
Chosen Option : --

Q.11 दि ग्रेट बैरियर रीफ, जो कि यूनेस्को (UNESCO) का विश्व धरोहर स्थल भी है, _____ से संबंधित है।

- Ans
- 1. सोमालिया
 - 2. भारत
 - 3. ब्राज़ील
 - 4. ऑस्ट्रेलिया

Question ID : 65497836115
Status : Answered
Chosen Option : 4

Q.12 चंदेला राजवंश के किस राजा ने कंदरिया महादेव मंदिर का निर्माण करवाया था?

- Ans
- 1. विजयपाल
 - 2. विद्याधर
 - 3. यशोवर्मन
 - 4. धंगदेव

Question ID : 65497836125
Status : Not Answered
Chosen Option : --

Q.13 भारतीय विद्रोह की शुरुआत 10 मई, 1857 को मेरठ से हुई, और यह कब खत्म हुआ?

- Ans
- 1. 13 मई, 1858 को कलकत्ता में
 - 2. 20 जून, 1858 को ग्वालियर में
 - 3. 18 सितंबर, 1859 को दिल्ली में
 - 4. 15 अगस्त, 1860 को झांसी में

Question ID : 65497836118
Status : Not Answered
Chosen Option : --

Q.14 निम्नलिखित में से कौन 'एवरी वोट काउंट्स - द स्टोरी ऑफ़ इंडियाज़ इलेक्शन' पुस्तक के लेखक हैं?

- Ans
- 1. हरिशंकर ब्रह्मा
 - 2. एन. गोपालस्वामी
 - 3. एस.वाई. कुरेशी
 - 4. नवीन चावला

Question ID : 65497836114
Status : Not Answered
Chosen Option : --

Q.15 भारत के संविधान के तहत, अनुच्छेद _____ कहता है कि राष्ट्रपति के पास किसी दोषी व्यक्ति की सजा को कम करने या उसे माफी देने की शक्ति होगी।

- Ans
- 1. 72
 - 2. 71
 - 3. 73
 - 4. 74

Question ID : 65497836130
Status : Not Answered
Chosen Option : --

Q.16 अल्ट्रासोनिक तरंगों की आवृत्ति कितनी होती है?

- Ans
- 1. 20 kHz से अधिक
 - 2. 15 kHz से अधिक
 - 3. 10 kHz से अधिक
 - 4. 5 kHz से अधिक

Question ID : 65497836124
Status : Answered
Chosen Option : 1

Q.17 नवंबर 2020 में, भारत और _____ ने संयुक्त रूप से रुपये (Rupay) कार्ड के चरण 2 का शुभारंभ किया।

- Ans
- 1. म्यांमार
 - 2. भूटान
 - 3. नेपाल
 - 4. बांग्लादेश

Question ID : 65497836127
Status : Answered
Chosen Option : 3

Q.18 निम्नलिखित में से कौन सा रसायन भारत में पहली बार स्थानीय रूप से निर्मित किया गया था और अक्टूबर 2020 में गुजरात स्टेट फ़र्टिलाइज़र्स एंड केमिकल्स इंडिया लिमिटेड द्वारा लॉन्च किया गया था?

- Ans
- 1. अमोनियम सल्फेट
 - 2. बोरोनेटेड कैल्शियम नाइट्रेट
 - 3. कैल्शियम अमोनियम नाइट्रेट
 - 4. ट्रिपल सुपरफॉस्फेट

Question ID : 65497836133
Status : Not Answered
Chosen Option : --

Q.19 सुदीरमन कप निम्नलिखित में से किस खेल (games/sports) से संबंधित है?

- Ans
- 1. बैडमिंटन
 - 2. बेसबॉल
 - 3. वॉलीबॉल
 - 4. बास्केटबॉल

Question ID : 65497836123
Status : Not Answered
Chosen Option : --

Q.20 नवंबर 2020 में, बार्कलेज ने अनुमान लगाया था कि वित्तीय वर्ष 2020-21 में भारत का सकल घरेलू उत्पाद (GDP) _____ का संकुचन दर्ज करेगा।

- Ans
- 1. -6%
 - 2. -5.4%
 - 3. -5%
 - 4. -6.4%

Question ID : 65497836119
Status : Not Answered
Chosen Option : --

Q.21 सर्प नौका दौड़ (स्नेक बोट रेस) निम्नलिखित में से किस त्यौहार की एक अनूठी विशेषता है?

- Ans
- 1. कलिंग महोत्सव
 - 2. दशहरा
 - 3. ओणम
 - 4. भोगली बिहू

Question ID : 65497836111
Status : Answered
Chosen Option : 3

Q.22 25 सितंबर 2020 को, _____ ने घोषणा की, कि वे 'सेफ पे' नामक फोन के माध्यम से एक संपर्क रहित डेबिट कार्ड आधारित भुगतान सुविधा शुरू करेंगे, जिससे प्रति दिन ₹20,000 तक के लेन-देन की अनुमति होगी।

- Ans
- 1. आई.सी.आई.सी.आई. (ICICI) बैंक
 - 2. विजया बैंक
 - 3. आई.डी.एफ.सी. (IDFC) फर्स्ट बैंक
 - 4. एच.डी.एफ.सी. (HDFC) बैंक

Question ID : 65497836131
Status : Not Answered
Chosen Option : --

Q.23 निम्नलिखित में से कौन सा बंदरगाह या टर्मिनल प्रशांत महासागर में स्थित नहीं है?

- Ans
- 1. सिडनी (ऑस्ट्रेलिया)
 - 2. योकोहामा (जापान)
 - 3. रियो डि जेनेरो (ब्राज़ील)
 - 4. शंघाई (चीन)

Question ID : 65497836121
Status : Answered
Chosen Option : 3

Q.24 आपतित किरण, आपतन बिंदु पर लंब किरण और परावर्तित किरण सभी _____ अवस्थित होती हैं।

- Ans
- 1. समान समतल में
 - 2. विकर्णतः विपरीत समतलों पर
 - 3. ऊर्ध्वाधर रूप से विपरीत समतलों पर
 - 4. भिन्न समतलों पर

Question ID : 65497836113
Status : Answered
Chosen Option : 1

Q.25 भारत में संविधान सभा के चुनाव _____ में हुए थे।

- Ans
- 1. जुलाई 1946
 - 2. अगस्त 1945
 - 3. नवंबर 1946
 - 4. जनवरी 1945

Question ID : 65497836132
Status : Answered
Chosen Option : 3

Q.1 एक छात्र 5 km/h की चाल से चलता है। जब वह अपनी चाल को बढ़ाकर 6 km/h कर देता है, तो वह स्कूल में 20 मिनट पहले पहुंच जाता है। छात्र द्वारा तय की गई दूरी ज्ञात करें।

- Ans
- 1. 15 km
 - 2. 8 km
 - 3. 10 km
 - 4. 12 km

Question ID : 65497836148
Status : Answered
Chosen Option : 3

Q.2 30 m चौड़े और 90 m लंबे किसी आयताकार तालाब के चारों ओर समान चौड़ाई वाला पैदल मार्ग बना है। यदि पैदल मार्ग का कुल क्षेत्रफल 2800 m² है, तो पैदल मार्ग की चौड़ाई (m में) कितनी होगी?

- Ans
- 1. 10
 - 2. 20
 - 3. 5
 - 4. 15

Question ID : 65497836145
Status : Answered
Chosen Option : 1

Q.3 56 गेंदों को ₹3,570 में बेचने पर, 14 गेंदों की लागत के बराबर हानि होती है। एक गेंद का लागत मूल्य कितना है?

- Ans
- 1. ₹75
 - 2. ₹80
 - 3. ₹65
 - 4. ₹85

Question ID : 65497836140
Status : Answered
Chosen Option : 4

Q.4 Find the ratio of the diagonal of a square of side 15 cm, to its side.

- Ans
- 1. $\sqrt{2} : 3$
 - 2. $2 : 3$
 - 3. $1 : \sqrt{2}$
 - 4. $\sqrt{2} : 1$

Question ID : 65497836144
Status : Answered
Chosen Option : 4

Q.5 A किसी कार्य के $\frac{3}{5}$ भाग को 12 दिन में पूरा कर सकता है। B उसी कार्य के $\frac{2}{3}$ भाग को 8 दिन में पूरा कर सकता है। A और B एक साथ इस कार्य को कितने दिन में पूरा करेंगे?

- Ans
- ✓ 1. $7\frac{1}{2}$ दिन
 - ✗ 2. $6\frac{1}{2}$ दिन
 - ✗ 3. 7 दिन
 - ✗ 4. 6 दिन

Question ID : 65497836160
Status : Answered
Chosen Option : 1

Q.6 एक समूह में 45 व्यक्ति (केवल पुरुष और महिलाएँ) हैं। पुरुष और महिलाओं की संख्या का अनुपात 5 : 4 है। यदि पुरुषों का औसत वजन 79.4 kg है और महिलाओं का औसत वजन 64.5 kg है, तो समूह में सभी व्यक्तियों का औसत वजन (kg में) कितना होगा (दशमलव के एक स्थान तक सही)?

- Ans
- ✗ 1. 69.5
 - ✗ 2. 73.5
 - ✓ 3. 72.8
 - ✗ 4. 77.4

Question ID : 65497836137
Status : Answered
Chosen Option : 3

Q.7 एक निश्चित धनराशि (₹ में) A, B और C के मध्य इस प्रकार विभाजित की जाती है कि A और B के हिस्सों का अनुपात 3 : 5 है तथा B और C के हिस्सों का अनुपात 2 : 7 है। यदि A का हिस्सा ₹3600 है तो कुल धनराशि (₹ में) कितनी थी?

- Ans
- ✓ 1. 30600
 - ✗ 2. 25200
 - ✗ 3. 36600
 - ✗ 4. 21000

Question ID : 65497836138
Status : Answered
Chosen Option : 1

Q.8 सोनू किसी कार्य को उतने ही समय में पूरा कर सकता है, जितने समय में मनु और राज मिलकर उस कार्य को पूरा कर सकते हैं। यदि राज अकेले इस कार्य को 30 दिन में पूरा कर सकता है और सोनू और मनु मिलकर इस कार्य को 15 दिन में पूरा कर सकते हैं, तो मनु अकेले इस कार्य को कितने दिन में पूरा कर सकता है?

- Ans
- ✗ 1. 45 दिन
 - ✗ 2. 42 दिन
 - ✗ 3. 58 दिन
 - ✓ 4. 60 दिन

Question ID : 65497836159
Status : Answered
Chosen Option : 4

Q.9 एक लेखाकार ने एक संख्या को $\frac{9}{2}$ के बजाय $\frac{2}{9}$ से गुणा कर दिया। उसकी गणना में लगभग कितनी प्रतिशत त्रुटि हुई?

- Ans
- 1. 0.95%
 - 2. 95%
 - 3. 9.5%
 - 4. 0.095%

Question ID : 65497836143
Status : Answered
Chosen Option : 1

Q.10 छह घंटियां क्रमशः 12 मिनट, 9 मिनट, 8 मिनट, 6 मिनट, 3 मिनट और 10 मिनट के अंतराल में स्वतः बजती हैं। शुरु होने के क्षण से 12 घंटे में वे एक-साथ कितनी बार बजेंगी?

- Ans
- 1. 5
 - 2. 4
 - 3. 2
 - 4. 6

Question ID : 65497836136
Status : Answered
Chosen Option : 4

Q.11 एक विक्रेता ने ₹50 में 10 की दर से संतरे खरीदे और उन्हें ₹24 में 6 की दर से बेच दिया। उसके लाभ या हानि का प्रतिशत कितना है?

- Ans
- 1. 20% हानि
 - 2. 15% लाभ
 - 3. 25% हानि
 - 4. 10% लाभ

Question ID : 65497836154
Status : Answered
Chosen Option : 1

Q.12 एक लंब वृत्तीय बेलन का आयतन 6930 cm^3 और उसकी ऊँचाई 20 cm है। इसका बक्र पृष्ठीय क्षेत्रफल (cm^2 में) ज्ञात करें। ($\pi = \frac{22}{7}$ मानें)

- Ans
- 1. 1320
 - 2. 660
 - 3. 1760
 - 4. 880

Question ID : 65497836152
Status : Answered
Chosen Option : 1

Q.13 एक दुकानदार ₹2,000 अंकित मूल्य वाली एक वस्तु पर 20% और 15% की क्रमिक छूट देता है। वह वस्तु को किस मूल्य पर बेचता है?

- Ans
- 1. ₹1,436
 - 2. ₹1,600
 - 3. ₹1,400
 - 4. ₹1,360

Question ID : 65497836146
Status : Answered
Chosen Option : 4

Q.14 यदि किसी संख्या का 30% उस संख्या के 60% से 15 कम है, तो वह संख्या ज्ञात कीजिए।

- Ans
- 1. 40
 - 2. 50
 - 3. 65
 - 4. 72

Question ID : 65497836158
Status : Answered
Chosen Option : 2

Q.15 ₹9,480 की धनराशि को X, Y और Z के बीच इस प्रकार विभाजित किया गया है कि X और Y के भाग का अनुपात 5 : 6, X और Z के भाग का अनुपात 4 : 7 है। Y और Z के भाग के बीच अंतर ज्ञात करें।

- Ans
- 1. ₹1,200
 - 2. ₹1,800
 - 3. ₹1,440
 - 4. ₹1,320

Question ID : 65497836150
Status : Answered
Chosen Option : 4

Q.16 किसी दुकान में एक बैग का अंकित मूल्य ₹350 है। दुकानदार द्वारा दी जाने वाली छूट 10% है। बैग के विक्रय मूल्य की गणना कीजिए।

- Ans
- 1. ₹324
 - 2. ₹325
 - 3. ₹315
 - 4. ₹308

Question ID : 65497836157
Status : Answered
Chosen Option : 3

Q.17 एक धनराशि पर ब्याज की दर पहले 3 वर्षों के लिए 8% वार्षिक है, अगले 4 वर्षों के लिए 10% वार्षिक है और 7 वर्ष के बाद की अवधि के लिए 12% वार्षिक है। यदि किसी व्यक्ति को 12 वर्ष के बाद साधारण ब्याज के रूप में ₹13795 मिलते हैं तो उसने कितनी धनराशि (₹ में) का निवेश किया था?

- Ans
- 1. 12275
 - 2. 12000
 - 3. 10000
 - 4. 11125

Question ID : 65497836139
Status : Answered
Chosen Option : 4

Q.18 ₹5,000 की धनराशि साधारण ब्याज पर 6 वर्षों में ₹7,550 हो जाती है। यदि ब्याज दर में 3.5% की वृद्धि हो जाती है, तो धनराशि कितनी हो जाएगी?

- Ans
- 1. ₹8,600
 - 2. ₹8,200
 - 3. ₹8,500
 - 4. ₹8,000

Question ID : 65497836141
Status : Answered
Chosen Option : 1

Q.19 $6 \div [4 \times 3 \{5 \times 4 \div (5 \text{ of } 4 + 4 \div 2 \times 4)\}]$ का मान ज्ञात कीजिए।

- Ans
- 1. $\frac{7}{10}$
 - 2. $\frac{3}{10}$
 - 3. $\frac{17}{10}$
 - 4. $\frac{-7}{10}$

Question ID : 65497836153
Status : Answered
Chosen Option : 1

Q.20 राम किसी कार्य को 60 दिन में पूरा कर सकता है। वह 10 दिन कार्य करता है और फिर, राज अकेले शेष कार्य को 35 दिन में पूरा करता है। यदि राम और राज एक साथ कार्य करें तो कितने समय में कार्य समाप्त करेंगे?

- Ans
- 1. $25\frac{2}{5}$ दिन
 - 2. $20\frac{3}{17}$ दिन
 - 3. $21\frac{1}{2}$ दिन
 - 4. $24\frac{12}{17}$ दिन

Question ID : 65497836155
Status : Answered
Chosen Option : 4

Q.21 21 m और 42 m की लंबाई वाली दो रस्सियों को समान लंबाई वाले टुकड़ों में काटा जाना है। प्रत्येक टुकड़े की अधिकतम संभव लंबाई कितनी होगी?

- Ans
- 1. 42 m
 - 2. 7 m
 - 3. 1 m
 - 4. 21 m

Question ID : 65497836142
Status : Answered
Chosen Option : 4

Q.22 In a hostel, 40 students are there. If 5 new students join, then the expenses of the mess will increase by ₹48 per day while the average expenditure per student will diminish by ₹2. What was the original expenditure of the mess?

- Ans
- 1. ₹1,104
 - 2. ₹1,020
 - 3. ₹1,076
 - 4. ₹1,100

Question ID : 65497836156
Status : Answered
Chosen Option : 1

Q.23 मूलधन ₹12,500 पर $2\frac{3}{4}$ वर्ष के लिए वार्षिक 12% चक्रवृद्धि ब्याज दर पर, ब्याज ज्ञात करें, यदि ब्याज वार्षिक रूप से चक्रवृद्धि होता है। (निकटतम ₹ में)

- Ans
- 1. ₹5,062
 - 2. ₹4,591
 - 3. ₹4,951
 - 4. ₹5,026

Question ID : 65497836151
Status : Answered
Chosen Option : 2

Q.24 एक व्यक्ति ने ₹2,400 में एक मेज और एक कुर्सी खरीदी। उसने मेज को 12% के लाभ पर और कुर्सी को 10% की हानि पर बेचा, जिससे कुल मिलाकर 4% का लाभ हुआ। मेज का क्रय मूल्य ज्ञात कीजिए। (निकटतम पूर्णांक तक सही करें)

- Ans
- 1. ₹1,527
 - 2. ₹1,225
 - 3. ₹1,150
 - 4. ₹1,375

Question ID : 65497836149
Status : Answered
Chosen Option : 1

Q.25 व्यंजक $7 - 1\frac{2}{7}$ of $2\frac{1}{3} \div \frac{3}{7}$ of $\frac{7}{9} + 3$ ($2 - \frac{2}{7} \div \frac{3}{7}$ of $\frac{1}{3}$)

को सरल करने पर _____ परिणाम प्राप्त होगा।

Ans 1. -2

2. $\frac{37}{7}$

3. $\frac{48}{7}$

4. 0

Question ID : 65497836147

Status : Answered

Chosen Option : 1

Section : Part D English

Q.1 Select the most appropriate meaning of the given idiom.

Wee hours of the day

Ans 1. Dusk

2. Dawn

3. Noon

4. Midnight

Question ID : 65497836169

Status : Answered

Chosen Option : 3

Q.2 Select the option that can be used as a one-word substitute for the given group of words.

One who has unlimited power

Ans 1. Omnivore

2. Omnipotent

3. Omnipresent

4. Omniscient

Question ID : 65497836172

Status : Answered

Chosen Option : 2

Q.3 Select the most appropriate option to fill in the blank.

Hitopadesha tales are written in a reader-friendly style, which perhaps _____ to their success.

Ans 1. provided

2. contributed

3. supplied

4. arranged

Question ID : 65497836166

Status : Answered

Chosen Option : 2

Q.4 The following sentence has been split into four segments. Identify the segment that contains a grammatical error.

I entered my room / and switch on the lights / but it was / still dark.

- Ans
- 1. still dark
 - 2. but it was
 - 3. and switch on the lights
 - 4. I entered my room

Question ID : 65497836177
Status : Answered
Chosen Option : 3

Q.5 Select the most appropriate meaning of the given idiom.

Chicken hearted

- Ans
- 1. Easily scared
 - 2. Visibly pleased
 - 3. Slightly risky
 - 4. Readily available

Question ID : 65497836167
Status : Answered
Chosen Option : 1

Q.6 Select the correctly spelt word.

- Ans
- 1. Specefyng
 - 2. Spacifyng
 - 3. Specifyng
 - 4. Specifng

Question ID : 65497836162
Status : Answered
Chosen Option : 3

Q.7 Select the option that can be used as a one-word substitute for the given group of words.

That through which light cannot pass

- Ans
- 1. Cloudy
 - 2. Opaque
 - 3. Gloomy
 - 4. Lucid

Question ID : 65497836179
Status : Answered
Chosen Option : 2

Q.8 Select the INCORRECTLY spelt word.

- Ans
- 1. Summary
 - 2. Sumpteus
 - 3. Suffering
 - 4. Sundry

Question ID : 65497836173
Status : Answered
Chosen Option : 2

Q.9 The following sentence has been split into four segments. Identify the segment that contains a grammatical error.

Please ensure / that you covering your face / with a mask / when you go out.

Ans 1. that you covering your face

2. with a mask

3. when you go out

4. Please ensure

Question ID : 65497836170

Status : Answered

Chosen Option : 1

Q.10 The following sentence has been split into four segments. Identify the segment that contains a grammatical error.

He moved on the undergrowth / quickly and silently, / hiding himself / from the enemy.

Ans 1. hiding himself

2. He moved on the undergrowth

3. from the enemy

4. quickly and silently

Question ID : 65497836164

Status : Answered

Chosen Option : 4

Q.11 Select the most appropriate ANTONYM of the given word.

Maintain

Ans 1. Protect

2. Preserve

3. Abandon

4. Sustain

Question ID : 65497836171

Status : Answered

Chosen Option : 3

Q.12 Select the option that will improve the underlined part of the given sentence. In case no improvement is needed, select 'No improvement required'.

One day as mine little sister said she wanted to become an actress, we were shocked.

Ans 1. since mine

2. when my

3. No improvement required

4. that my

Question ID : 65497836180

Status : Answered

Chosen Option : 2

Q.13 Select the most appropriate option that can substitute the underlined segment in the given sentence. If there is no need to substitute it, select 'No substitution required'.

The environment is on threat hedgerows and woodlands are vanishing.

- Ans
- 1. in threat
 - 2. No substitution required
 - 3. under threat
 - 4. into threat

Question ID : 65497836175
Status : Answered
Chosen Option : 3

Q.14 Select the most appropriate option to fill in the blank.

Many students are _____ by the life of great leaders.

- Ans
- 1. inspired
 - 2. involved
 - 3. infected
 - 4. interested

Question ID : 65497836174
Status : Answered
Chosen Option : 1

Q.15 Select the most appropriate ANTONYM of the given word.

REMEMBER

- Ans
- 1. Learn
 - 2. Forget
 - 3. Retain
 - 4. Memorise

Question ID : 65497836176
Status : Answered
Chosen Option : 2

Q.16 Select the option that can be used as a one-word substitute for the given group of words.

Belonging to the middle ages

- Ans
- 1. Modern
 - 2. Primitive
 - 3. Ancient
 - 4. Medieval

Question ID : 65497836168
Status : Answered
Chosen Option : 4

Q.17 Select the most appropriate SYNONYM of the given word.

Appeal

- Ans 1. Charm
 2. Challenge
 3. Bloom
 4. Growth

Question ID : 65497836178
Status : Answered
Chosen Option : 2

Q.18 Select the most appropriate option that can substitute the underlined segment in the given sentence. If there is no need to substitute it, select 'No substitution required'.

I recently visited the school when I studied in Class 10.

- Ans 1. No substitution required
 2. whenever
 3. where
 4. wherever

Question ID : 65497836161
Status : Answered
Chosen Option : 3

Q.19 Select the most appropriate synonym of the given word.

Destroy

- Ans 1. Construct
 2. Demolish
 3. Detach
 4. Rehabilitate

Question ID : 65497836165
Status : Answered
Chosen Option : 2

Q.20 Select the most appropriate option to fill in the blank.

A soft breeze blows as the sun _____ in the distant waters.

- Ans 1. ramifies
 2. glazes
 3. shimmers
 4. basks

Question ID : 65497836163
Status : Answered
Chosen Option : 3

Comprehension:

In the following passage, some words have been deleted. Read the passage carefully and select the most appropriate option to fill in each blank.

On International Women's Day, a large number of 'women of substance' spread (1)_____ of their equal status. Women celebrate their achievements and (2)_____ their potential. They have made themselves powerful and (3)_____ their skills. Today, in every field, women have proved (4)_____ by scaling great heights and turning the tide of (5)_____ in their favour.

SubQuestion No : 21

Q.21 Select the most appropriate option to fill in blank no. 1.

- Ans
- 1. ignorance
 - 2. arrogance
 - 3. negligence
 - 4. awareness

Question ID : **65497836182**

Status : **Answered**

Chosen Option : **4**

Comprehension:

In the following passage, some words have been deleted. Read the passage carefully and select the most appropriate option to fill in each blank.

On International Women's Day, a large number of 'women of substance' spread (1)_____ of their equal status. Women celebrate their achievements and (2)_____ their potential. They have made themselves powerful and (3)_____ their skills. Today, in every field, women have proved (4)_____ by scaling great heights and turning the tide of (5)_____ in their favour.

SubQuestion No : 22

Q.22 Select the most appropriate option to fill in blank no. 2.

- Ans
- 1. tolerate
 - 2. depreciate
 - 3. recognise
 - 4. deny

Question ID : **65497836183**

Status : **Answered**

Chosen Option : **3**

Comprehension:

In the following passage, some words have been deleted. Read the passage carefully and select the most appropriate option to fill in each blank.

On International Women's Day, a large number of 'women of substance' spread (1)_____ of their equal status. Women celebrate their achievements and (2)_____ their potential. They have made themselves powerful and (3)_____ their skills. Today, in every field, women have proved (4)_____ by scaling great heights and turning the tide of (5)_____ in their favour.

SubQuestion No : 23

Q.23 Select the most appropriate option to fill in blank no. 3.

- Ans
- 1. upgraded
 - 2. demoted
 - 3. downgraded
 - 4. motivated

Question ID : **65497836184**

Status : **Answered**

Chosen Option : **1**

Comprehension:

In the following passage, some words have been deleted. Read the passage carefully and select the most appropriate option to fill in each blank.

On International Women's Day, a large number of 'women of substance' spread (1)_____ of their equal status. Women celebrate their achievements and (2)_____ their potential. They have made themselves powerful and (3)_____ their skills. Today, in every field, women have proved (4)_____ by scaling great heights and turning the tide of (5)_____ in their favour.

SubQuestion No : 24

Q.24 Select the most appropriate option to fill in blank no. 4.

- Ans 1. her
 2. themselves
 3. herself
 4. them

Question ID : 65497836185
Status : Answered
Chosen Option : 2

Comprehension:

In the following passage, some words have been deleted. Read the passage carefully and select the most appropriate option to fill in each blank.

On International Women's Day, a large number of 'women of substance' spread (1)_____ of their equal status. Women celebrate their achievements and (2)_____ their potential. They have made themselves powerful and (3)_____ their skills. Today, in every field, women have proved (4)_____ by scaling great heights and turning the tide of (5)_____ in their favour.

SubQuestion No : 25

Q.25 Select the most appropriate option to fill in blank no. 5.

- Ans 1. treasure
 2. wealth
 3. hardship
 4. fortune

Question ID : 65497836186
Status : Answered
Chosen Option : 4

Section : Part D Hindi

Q.1 दिए गए वाक्यांश के लिए एक शब्द दीजिए।

जीतने की इच्छा

- Ans 1. जीमिविषा
 2. जुगुप्सा
 3. जिगीषा
 4. अभिप्सा

Question ID : 65497836189
Status : Not Answered
Chosen Option : --

Q.2 दिये गये वाक्य के किस भाग में त्रुटि है?

यह दवा रोग को समूल से नष्ट कर देगी।

- Ans
- 1. समूल से
 - 2. रोग को
 - 3. यह दवा
 - 4. नष्ट कर देगी।

Question ID : 65497836202
Status : Not Answered
Chosen Option : --

Q.3 सही बर्तनी वाले शब्द का चयन करें।

- Ans
- 1. संग्रहित
 - 2. संगृहीत
 - 3. संगृहित
 - 4. संग्रहीत

Question ID : 65497836188
Status : Not Answered
Chosen Option : --

Q.4 रिक्त स्थान को भरने के लिए सबसे उपयुक्त शब्द का चयन करें।

तलवार का _____ भर जाता है पर बात का नहीं।

- Ans
- 1. पीड़ा
 - 2. नाम
 - 3. घाव
 - 4. गद्दा

Question ID : 65497836193
Status : Not Answered
Chosen Option : --

Q.5 निम्नलिखित में से कौन सा समानार्थी शब्दों का युग्म सही नहीं है?

- Ans
- 1. निशापति - दिवाकर
 - 2. चंद्र - सुधाकर
 - 3. राकेश - चांद
 - 4. शशि - रजनीश

Question ID : 65497836200
Status : Not Answered
Chosen Option : --

Q.6 रिक्त स्थान को भरने के लिए सबसे उपयुक्त विकल्प का चयन करें।

मुझे इस कंपनी में काम करने का पाँच वर्ष का _____ है।

- Ans
- 1. समय
 - 2. अभ्यास
 - 3. अनुभव
 - 4. प्रयास

Question ID : 65497836201
Status : Not Answered
Chosen Option : --

Q.7 दिए गए शब्द का विलोम चुनें।

अपमान

- Ans 1. अभिमान
 2. सत्कार
 3. सम्मान
 4. स्वाभिमान

Question ID : 65497836197
Status : Not Answered
Chosen Option : --

Q.8 निम्नलिखित प्रश्न में, दिए गए चार विकल्पों में से, उस विकल्प का चयन करें जो मुहावरे का अर्थ व्यक्त करता है।

हथियार डालना

- Ans 1. शत्रु को मारना
 2. लड़ाई करना
 3. पराजय स्वीकार करना
 4. विजयी होना

Question ID : 65497836198
Status : Not Answered
Chosen Option : --

Q.9 जीवनभर में सत्य का पालन करूँगा।

रेखांकित शब्द के स्थान उचित शब्द लिखिए।

- Ans 1. कभी कभी
 2. एक साल तक
 3. कभी भी
 4. आजीवन

Question ID : 65497836205
Status : Not Answered
Chosen Option : --

Q.10 दिए गए शब्द का समानार्थी शब्द बताइए।

यमुना

- Ans 1. कृष्णा
 2. देवनदी
 3. अलकनंदा
 4. भागीरथी

Question ID : 65497836192
Status : Not Answered
Chosen Option : --

Q.11 दिए गए वाक्य का वो भाग ज्ञात करें जिसमें कोई त्रुटि है। यदि कोई त्रुटि नहीं है, तो 'कोई त्रुटि नहीं है' चुनें।

आज मुझे (1)\ बाज़ार से चादर (2)\ खरीदने है। (3)\ कोई त्रुटि नहीं है (4)

- Ans
- 1. 1
 - 2. 2
 - 3. 4
 - 4. 3

Question ID : 65497836191
Status : Not Answered
Chosen Option : --

Q.12 'किसी पर विजय पाने की इच्छा रखने वाला' वाक्यांश के लिए एक शब्द होगा-

- Ans
- 1. योद्धा
 - 2. शत्रु
 - 3. जिगीषु
 - 4. जिजीविषु

Question ID : 65497836204
Status : Not Answered
Chosen Option : --

Q.13 रिक्त स्थान को भरने के लिए सबसे उपयुक्त शब्द का चयन करें।

बैंक का कर्ज चुकाकर वह _____ हो गया।

- Ans
- 1. खाली
 - 2. उन्मूलन
 - 3. दयनीय
 - 4. संतुष्ट

Question ID : 65497836194
Status : Not Answered
Chosen Option : --

Q.14 सही वर्तनी वाले शब्द का चयन करें।

- Ans
- 1. उज्जल
 - 2. अतीवृष्टि
 - 3. उज्ज्वल
 - 4. वृष्टीपात

Question ID : 65497836187
Status : Not Answered
Chosen Option : --

Q.15 दिए गए वाक्य में रेखांकित खंड को प्रतिस्थापित करने के लिए सबसे उपयुक्त विकल्प का चयन करें। यदि इसे प्रतिस्थापित करने की आवश्यकता नहीं है, तो विकल्प 'किसी बदलाव की आवश्यकता नहीं है' का चयन करें।

हिंदी को भारत की राजभाषा स्वीकृत किये गये है।

- Ans
- 1. राजभाषा स्वीकृत की गयी है।
 - 2. राजभाषा स्वीकृत किया गया है।
 - 3. राजभाषा स्वीकृत किये गये है।
 - 4. किसी बदलाव की आवश्यकता नहीं है।

Question ID : 65497836190

Status : Not Answered

Chosen Option : --

Q.16 'दूसरों के लिए अपने सुखों का त्याग' वाक्यांश के लिए एक शब्द होगा-

- Ans
- 1. आत्मसमर्पण
 - 2. आदर्शवाद
 - 3. आत्मघाती
 - 4. आत्मोत्सर्ग

Question ID : 65497836206

Status : Not Answered

Chosen Option : --

Q.17 दिए गए वाक्य का वह भाग ज्ञात करें जिसमें कोई त्रुटि है। यदि कोई त्रुटि नहीं है, तो 'कोई त्रुटि नहीं है' चुनें।

कानपुर में रहने वाले उसके चाचा को लड़की हुई है।

- Ans
- 1. कानपुर में रहने वाले
 - 2. कोई त्रुटि नहीं है
 - 3. लड़की हुई है।
 - 4. उसके चाचा को

Question ID : 65497836199

Status : Not Answered

Chosen Option : --

Q.18 दिए गए वाक्य में रेखांकित खंड को प्रतिस्थापित करने के लिए सबसे उपयुक्त विकल्प का चयन करें। यदि इसे प्रतिस्थापित करने की आवश्यकता नहीं है, तो विकल्प 'किसी बदलाव की आवश्यकता नहीं है' का चयन करें।

आपका पत्र सधन्यवाद मिला।

- Ans
- 1. किसी बदलाव की आवश्यकता नहीं है।
 - 2. आपका पत्र मिला। धन्यवाद।
 - 3. धन्यवाद के प्रति आपका पत्र मिला।
 - 4. आपका सधन्यवाद पत्र मिला।

Question ID : 65497836196

Status : Not Answered

Chosen Option : --

Q.19 निम्नलिखित प्रश्न में, दिए गए चार विकल्पों में से, उस विकल्प का चयन करें जो मुहावरे का अर्थ व्यक्त करता है।

आंख दिखाना

- Ans
- 1. होश आना
 - 2. निगरानी करना
 - 3. विमुख होना
 - 4. गुस्सा प्रकट करना

Question ID : 65497836195

Status : Not Answered

Chosen Option : --

Q.20 'संक्षिप्त' का विलोम शब्द होगा-

- Ans
- 1. समेकित
 - 2. संकुचित
 - 3. विस्तृत
 - 4. लिखित

Question ID : 65497836203

Status : Not Answered

Chosen Option : --

Comprehension:

ईर्ष्या (1) _____ लज्जावती वृत्ति है। वह अपने धारणकर्ता अर्थात् स्वामी के सामने भी (2) _____ खोलकर नहीं आती। उसके रूप आदि का पूरा (3) _____ न पाकर भी धारणकर्ता उसकी हरम की बेगमों से अधिक परदा करता है। यह कभी (4) _____ रूप से समाज के सामने नहीं आती। उसका कोई बाहरी (5) _____ धारणकर्ता पर नहीं दिखाई देता।

निम्न प्रश्नों के उत्तर उपरोक्त गद्यांश के आधार पर दीजिए।

SubQuestion No : 21

Q.21 गद्यांश के रिक्त स्थान (1) के लिए सर्वाधिक उपयुक्त शब्द होगा-

- Ans
- 1. न्यून
 - 2. अत्यंत
 - 3. प्रेरक
 - 4. अनुकरणीय

Question ID : 65497836208

Status : Not Answered

Chosen Option : --

Comprehension:

ईर्ष्या (1) _____ लज्जावती वृत्ति है। वह अपने धारणकर्ता अर्थात स्वामी के सामने भी (2) _____ खोलकर नहीं आती। उसके रूप आदि का पूरा (3) _____ न पाकर भी धारणकर्ता उसकी हरम की बेगमों से अधिक परदा करता है। यह कभी (4) _____ रूप से समाज के सामने नहीं आती। उसका कोई बाहरी (5) _____ धारणकर्ता पर नहीं दिखाई देता।

निम्न प्रश्नों के उत्तर उपरोक्त गद्यांश के आधार पर दीजिए।

SubQuestion No : 22

Q.22 गद्यांश के रिक्त स्थान (2) के लिए सर्वाधिक उपयुक्त शब्द होगा-

- Ans
- 1. मुँह
 - 2. गर्दन
 - 3. हाथ
 - 4. पैर

Question ID : 65497836209

Status : Not Answered

Chosen Option : --

Comprehension:

ईर्ष्या (1) _____ लज्जावती वृत्ति है। वह अपने धारणकर्ता अर्थात स्वामी के सामने भी (2) _____ खोलकर नहीं आती। उसके रूप आदि का पूरा (3) _____ न पाकर भी धारणकर्ता उसकी हरम की बेगमों से अधिक परदा करता है। यह कभी (4) _____ रूप से समाज के सामने नहीं आती। उसका कोई बाहरी (5) _____ धारणकर्ता पर नहीं दिखाई देता।

निम्न प्रश्नों के उत्तर उपरोक्त गद्यांश के आधार पर दीजिए।

SubQuestion No : 23

Q.23 गद्यांश के रिक्त स्थान (3) के लिए सर्वाधिक उपयुक्त शब्द होगा-

- Ans
- 1. सौन्दर्य
 - 2. आकर्षण
 - 3. मूल्य
 - 4. परिचय

Question ID : 65497836210

Status : Not Answered

Chosen Option : --

Comprehension:

ईर्ष्या (1) _____ लज्जावती वृत्ति है। वह अपने धारणकर्ता अर्थात स्वामी के सामने भी (2) _____ खोलकर नहीं आती। उसके रूप आदि का पूरा (3) _____ न पाकर भी धारणकर्ता उसकी हरम की बेगमों से अधिक परदा करता है। यह कभी (4) _____ रूप से समाज के सामने नहीं आती। उसका कोई बाहरी (5) _____ धारणकर्ता पर नहीं दिखाई देता।

निम्न प्रश्नों के उत्तर उपरोक्त गद्यांश के आधार पर दीजिए।

SubQuestion No : 24

Q.24 गद्यांश के रिक्त स्थान (4) के लिए सर्वाधिक उपयुक्त शब्द होगा-

- Ans
- 1. परोक्ष
 - 2. रहस्य
 - 3. प्रत्यक्ष
 - 4. अलौकिक

Question ID : 65497836211

Status : Not Answered

Chosen Option : --

Comprehension:

ईर्ष्या (1) _____ लज्जावती वृत्ति है। वह अपने धारणकर्ता अर्थात् स्वामी के सामने भी (2) _____ खोलकर नहीं आती। उसके रूप आदि का पूरा (3) _____ न पाकर भी धारणकर्ता उसकी हरम की बेगमों से अधिक परदा करता है। यह कभी (4) _____ रूप से समाज के सामने नहीं आती। उसका कोई बाहरी (5) _____ धारणकर्ता पर नहीं दिखाई देता।

निम्न प्रश्नों के उत्तर उपरोक्त गद्यांश के आधार पर दीजिए।

SubQuestion No : 25

Q.25 गद्यांश के रिक्त स्थान (5) के लिए सर्वाधिक उपयुक्त शब्द होगा-

- Ans 1. लक्षण
 2. अंग
 3. साधन
 4. उदाहरण

Question ID : 65497836212

Status : Not Answered

Chosen Option : --